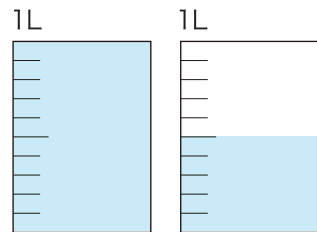


小数の仕組み

月	日
名前	

1 ポットの中の 水のかさを調べると 1L と $\frac{5}{10}$ L ありました。

に あてはまる 数 を 書きましょう。



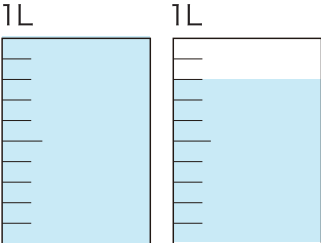
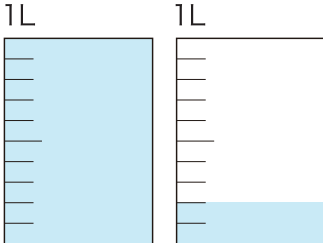


1L の $\frac{1}{10}$ のかさを 小数で表すと **0.1** L と

書くことができるので $\frac{5}{10}$ L は 小数で表すと **0.5** L と

書くことができ 1L とあわせると **1.5** L となります。

2 つぎの 水のかさを 小数で 書きましょう。

① 	② 	③ 	④ 
0.4 L	0.9 L	1.8 L	1.2 L

3 つぎの ① ~ ④ までの数を 整数と小数に 分けましょう。

① 1.2	② 1	③ 0.5	整数	小数
④ 3.7	⑤ 12	⑥ 0	い、お、か	あ、う、え