


- 1 あめが 6つあります。3つの袋に 3つの袋に 同じ数ずつ分けると  
1人分は 何こになるでしょう。



式

答え

- 2 20このいちごを 4人で分けます。1人分は  
何こになるでしょう。



式

答え



- 3 えんぴつが 42本あります。7人に 同じ数ずつ分けると  
1人分は 何本になるでしょう。

式

答え

- 4 56このりんごを 7人で分けます。1人分は 何こになるでしょう。

式


答え

- 5 81cm のテープを 同じ長さで 9本に切って 1人1本ずつ  
分けます。1人分は 何cmになりますか。

式

答え

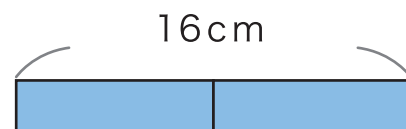
- 1 8このケーキを 4つのお皿に <sup>さら</sup>分けると  
1皿分は 何こになるでしょう。



式

答え

- 2 16cm のテープを 同じ長さに 半分に切ると  
1つ分は 何cmになるでしょう。



式

答え

- 3 81ページの本を 1日に同じページ数だけ 読んでいくと  
9日かかりました。1日何ページ読んだでしょう。

式

答え

- 4 りんごが 24こ あります。

- ① 同じ数ずつ 8人に分けると 1人分は 何こになるでしょう。

式

答え

- ② 1人に 6こずつ分けると 何人に 分けられるでしょう。

式

答え

- 1 10こ入のチョコレートがあります。1人に2こずつ分けると何人に分けられるでしょう。

式


答え



- 2 えんぴつが15本あります。5本を1セットとして分けると何セットできるでしょう。

式

答え



- 3 子どもが20人います。4人1組でグループを作るとグループは何組できるでしょう。

式

答え

- 4 56ページの 本があります。1日7ページずつ読むと何日で読み終わるでしょう。

式

答え

- 5 40このクッキーを1人8まいずつ分けると何人に分けられるでしょう。

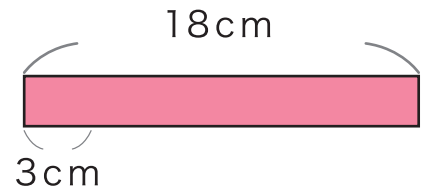
式

答え

- 1 18cmのテープを 3cmずつ分けると 何本に分けられるでしょう。

式


答え



- 2 35まい入のクッキーの箱があります。1皿に5まいずつ入れるには 何皿ひつようですか。

式

答え



- 3 お折り紙が 63まいあります。1人7まいずつ分けると何人に分けられるでしょう。

式

答え

- 4 子どもが 18人います。

- ① 2人1組でグループを作ると 何グループできますか。

式

答え

- ② 6グループ作るには 1グループに 何人ひつようですか。

式

答え