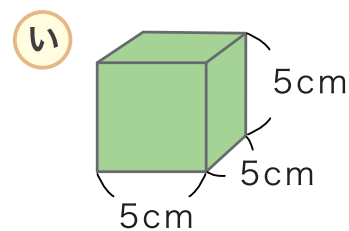
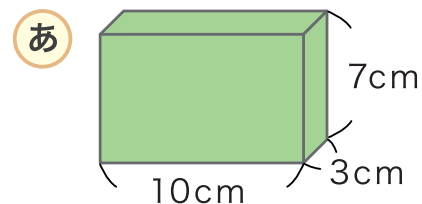


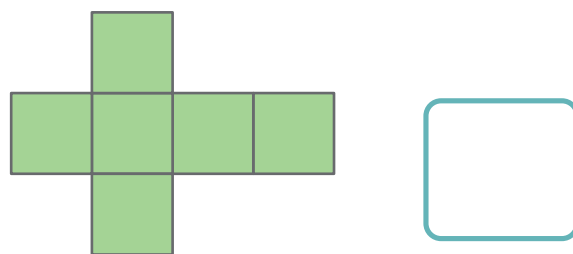
はこの形

に あてはまる 数や 言葉を 書きましょう。

1 この形は 面が  つ  
 辺が  つ、 ちょう点が  つ  
 から できています。



2 右のような 面を くみたてて はこを  
 つくると あと い の どちらの  
 はこが できますか。



3 あ の はこの 面の 形は なんという  
 四角形か こたえましょう。

4 あ の はこには 同じ 形の 面が  
 いくつずつ あるでしょう。

 つずつ

5 い の はこの 面の 形は なんという  
 四角形か こたえましょう。

6 い の はこには 同じ 形の 面が  
 いくつ あるでしょう。

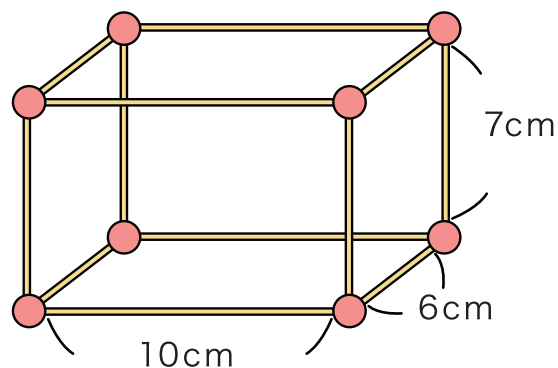
 つ

# はこの形

1 ひごと <sup>ど だま</sup>ねん土玉をつかってはこの形をつくります。

① <sup>なん</sup>ねん土玉は何こ  
いるでしょう。  こ

② ひごは <sup>ほん</sup>ぜんぶで何本  
いるでしょう。  本



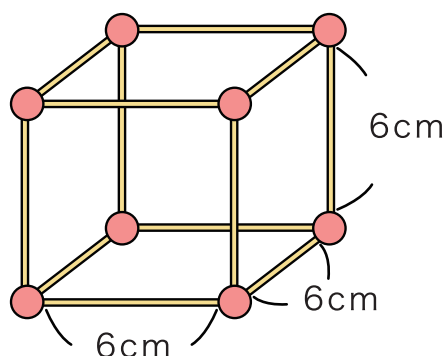
③ <sup>なが</sup>どんな長さのひごが何本ずついるでしょう。

10cm…  本    7cm…  本    6cm…  本

2 ひごと <sup>せいほうけい</sup>ねん土玉をつかって正方形のはこをつくります。

① <sup>なん</sup>ねん土玉は何こ  
いるでしょう。  こ

② <sup>なが</sup>どんな長さのひごが  
何本 いるでしょう。



cm の ひごが  本 います。

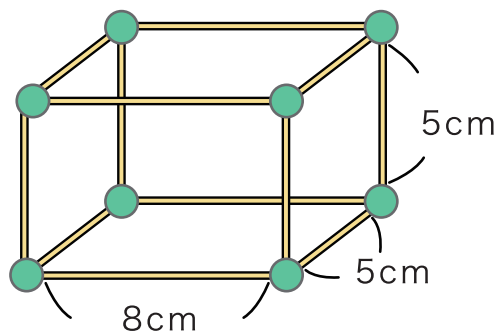
# はこの形

1 ひごと <sup>ど だま</sup>ねん土玉を つかってはこの形をつくります。

① <sup>なん</sup>ねん土玉は何こ  
いるでしょう。  こ

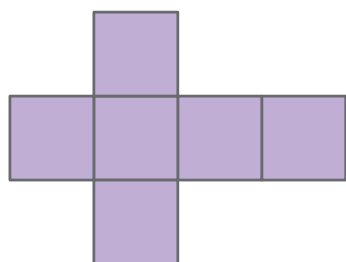
② <sup>なが</sup>どんな長さの <sup>ぼん</sup>ひごが何本  
ずつ いるでしょう。

8cm…  本    5cm…  本

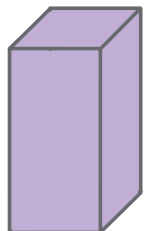


③ できたはこの形は <sup>めん</sup>面が  つ、<sup>てん</sup>ちょう点が  つ、  
<sup>へん</sup>辺が  つ あります。

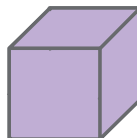
2 つぎの面をくみたててはこをつくとどんな形の  
はこができますか。 **あ** ~ **う** の <sup>なか</sup>中からこたえましょう。



**あ**



**い**



**う**

