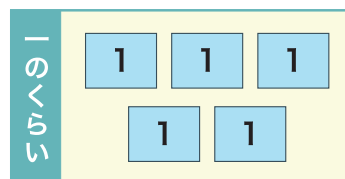
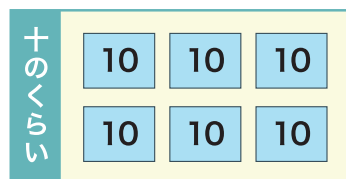
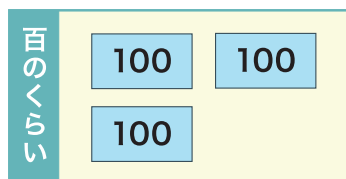
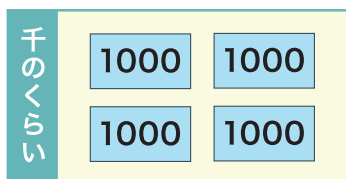


1000より大きい数

1 □ にあてはまる数を <sup>か</sup>書きましょう。



① 4365 は 1000 を □ こ、100 を □ こ、  
10 を □ こ、1 を □ こ あわせた数 です。

② 4365 は <sup>かんじ</sup>漢字で □ と書きます。

2 つぎの数 <sup>すうじ</sup>を数字で書きましょう。

① 1000 1000 1000 100 100 10 1 □

② 5000 1000 100 100 100 100 10 10 1 1 1 □

③ 五千六百二十 □

④ 三千二百十一 □

⑤ 七千九百 □

⑥ 千五十八 □

1 □ に あてはまる 数を <sup>か</sup>書きましょう。

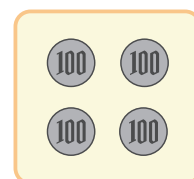
① 5200 は 100 を □ こ あつめた 数です。

② 7520 は 1000 を □ こ、100 を □ こ、  
10 を □ こ あわせた 数です。

③ 100 を 50 こ あつめた 数は □ です。

④ 100 が □ こと、100 が 4 こで あわせて

□ になります。



2 つぎの 数を <sup>かんじ</sup>漢字で 書きましょう。

① 1057 □

② 3560 □

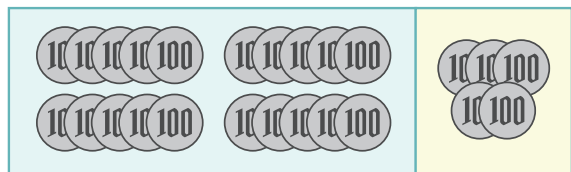
③ 7983 □

④ 4572 □

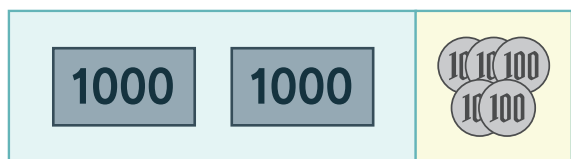
1000より大きい数

1 □ にあてはまる数を <sup>か</sup>書きましょう。

100 が 20 こで 、



100 が 5 こで  なので



100 を 25 こあつめた数は  です。

2 つぎの数はいくつになるでしょう。

① 100 を 10 こあつめた数

② 100 を 50 こあつめた数

③ 100 を 99 こあつめた数

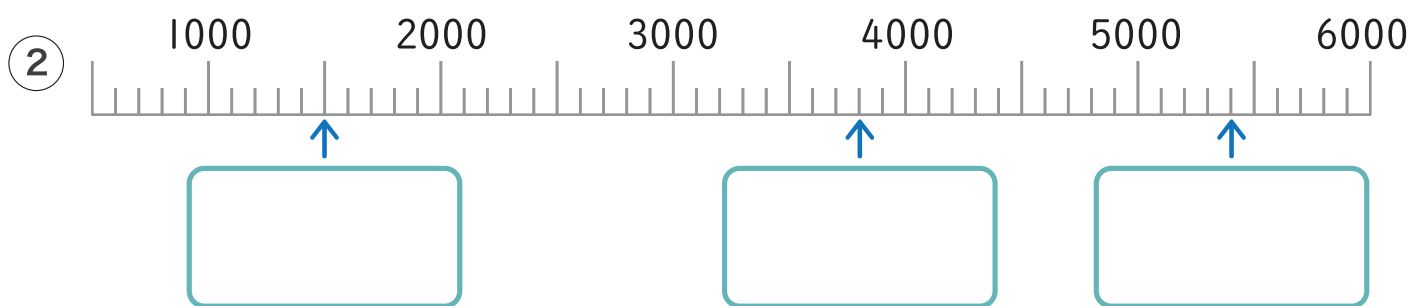
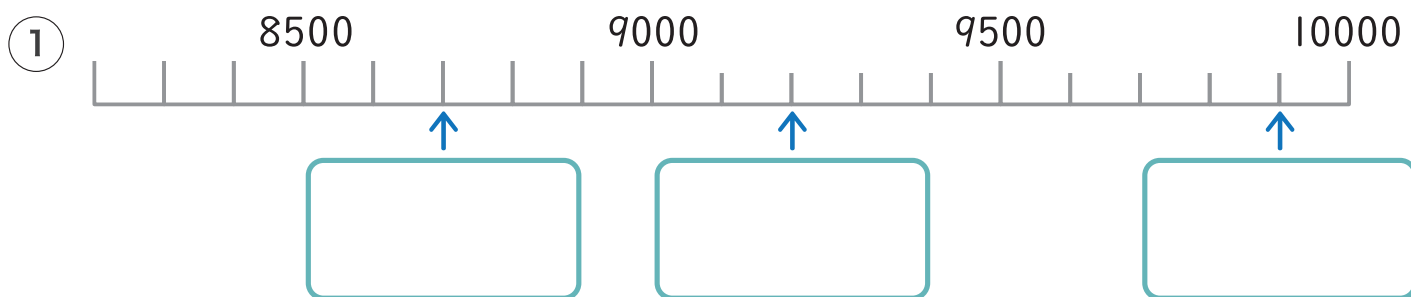
④ 100 を 42 こあつめた数

⑤ 7000 は 100 を <sup>なん</sup>何こあつめた数ですか。

⑥ 9000 は 1000 を何こあつめた数ですか。

1000より大きい数

1 下の数の直線の  にあてはまる数を書きましょう。



2  にあてはまる数を書きましょう。

① 1000を10こ  あつめた数

② 10000より  1小さい数

③ 10000は100を  こあつめた数です。

3 あといくつで10000になるでしょう。

① 9990

② 9000

③ 9900

1000より大きい数

1 つぎの カードを <sup>み</sup>見て □ に <sup>か</sup>あてはまる <sup>かず</sup>数を <sup>か</sup>書きましょう。

6200 5000 ① 6200 より <sup>おお</sup>大きいのは □ です。

4900 7800 ② 5000 より <sup>ちい</sup>小さいのは □ です。

③ 5000 は 4900 より □ 大きい 数です。

2 数を くらべて □ に <sup>か</sup>あてはまる >、< を 書きましょう。

① 9000 □ 8000 ② 7650 □ 7660

③ 5099 □ 5089 ④ 8968 □ 4968

3 数を くらべて □ に <sup>か</sup>あてはまる >、<、= を 書きましょう。

① 6500 □  $6000 + 50$  ② 7850 □  $7000 + 880$

③ 4000 □  $2000 + 2000$  ④ 1500 □  $500 + 1000$