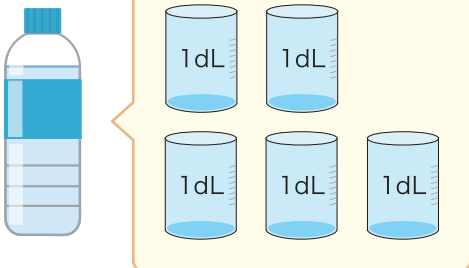
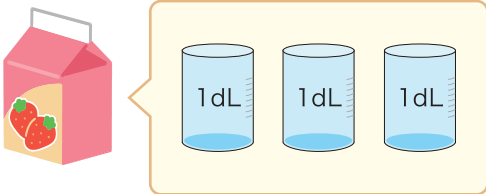


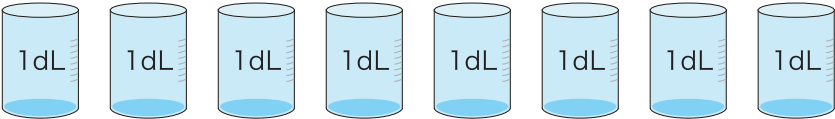
1 □ に あてはまる 数<sup>かず</sup>を 書<sup>か</sup>きましょう。


①  ペットボトルに 入<sup>はい</sup>る 水<sup>みず</sup>の かさ<sup>かさ</sup>は  
1dLの □ つ分<sup>ぶん</sup>で □ dLです。

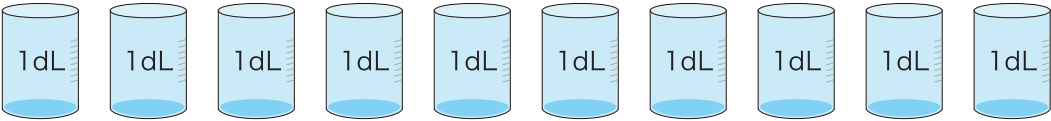
②  紙<sup>かみ</sup>パックに 入<sup>はい</sup>る 水<sup>みず</sup>の かさ<sup>かさ</sup>は  
1dLの □ つ分<sup>ぶん</sup>で □ dLです。

2 つぎの 水<sup>みず</sup>の かさ<sup>かさ</sup>は 何<sup>なん</sup>dL でしょう。

①  □      ②  □

③  □

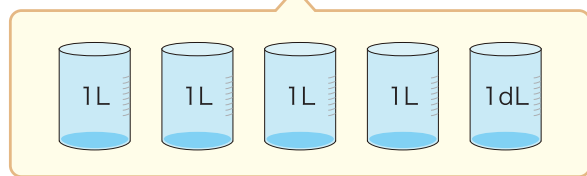
④  □

⑤  □

1  に あてはまる 数<sup>かず</sup>を 書<sup>か</sup>きましょう。

① バケツに 入<sup>はい</sup>る 水<sup>みず</sup>の かさ<sup>かさ</sup>は

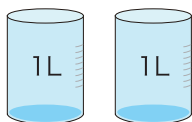
1Lの  ぶん<sup>ぶん</sup>で  Lです。

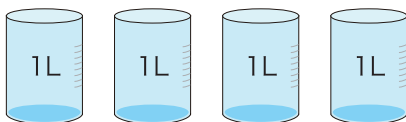


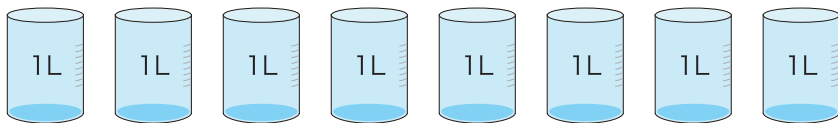
② 1Lは  dL なので

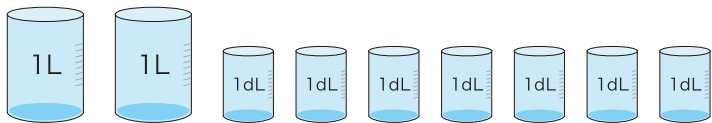
このバケツに 入<sup>はい</sup>る 水<sup>みず</sup>の かさ<sup>かさ</sup>は  dLです。

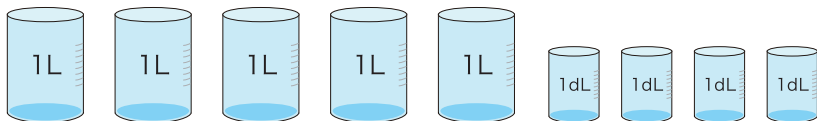
2 つぎの 水<sup>みず</sup>の かさ<sup>かさ</sup>を こたえ<sup>こたえ</sup>ましょう。

① 

② 

③ 

④ 

⑤ 

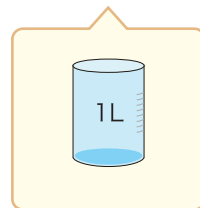
1  に あてはまる <sup>かず</sup> 数 を <sup>か</sup> 書 け ます。

① 右の <sup>みぎ</sup> 紙 <sup>かみ</sup> パック には 1L の <sup>はい</sup> 水 が 入 り ます。



1L は  mL なので この紙パックには

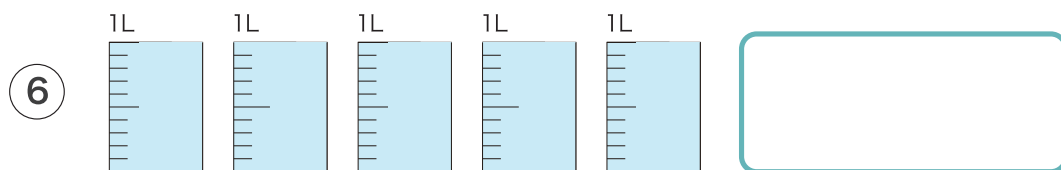
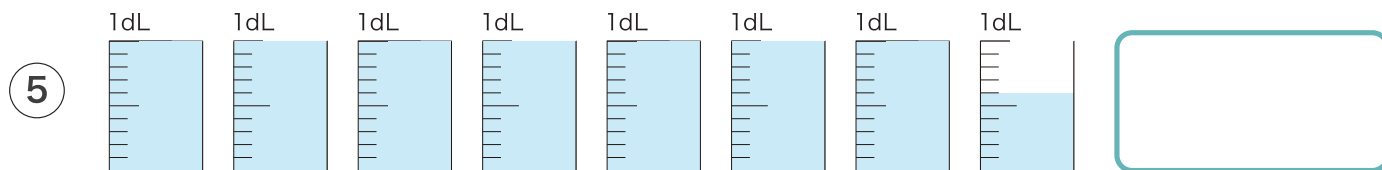
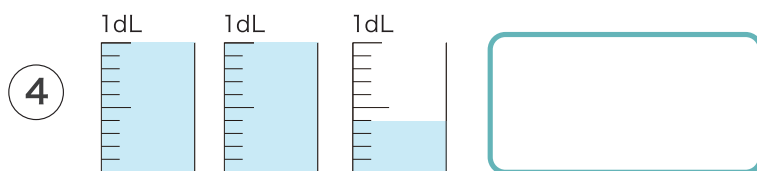
100mL の カップ  <sup>ぶん</sup> ばい 分 の 水 が 入 り ます。



② 100mL =  dL。

③ 1000mL =  dL。

2 つぎの 水 の かさ を mL で こたえ ませう。



に あてはまる <sup>かず</sup> 数を <sup>か</sup> 書きましょう。

1 1L =  dL。

2 10L =  dL。

3 1L =  mL。

4 1dL =  mL。

5 10dL =  mL。

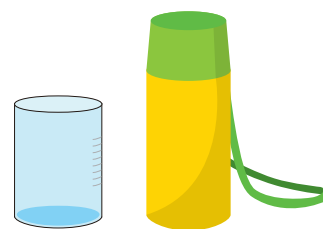
6 500mL =  dL。

7 1L 5dL =  mL。

8 2L 8dL =  mL。

9 15dL =  L  dL。

10 12dL =  L  mL。



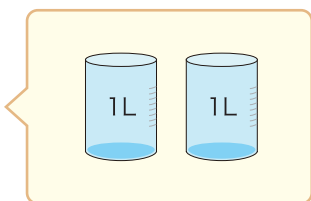
11 1500mL =  L  dL。

12 3700mL =  L  mL。

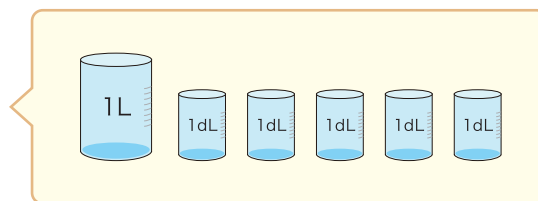
1 ペットボトルに 2L、紙パックに 1L 5dL の水が入ります。



ペットボトル



紙パック



① ペットボトルと紙パックのかさはあわせてどれだけでしょう。


$$\square \text{ L} + \square \text{ L} \square \text{ dL} = \square \text{ L} \square \text{ dL}$$

② ペットボトルと紙パックのかさのちがいはどれだけでしょう。

$$\square \text{ L} - \square \text{ L} \square \text{ dL} = \square \text{ L} \square \text{ dL}$$

2 バケツに 5L 7dL、ビンに 3L 2dL 入ります。

次のもんだいのしきとこたえを書きましょう。



① バケツとビンのかさはあわせてどれだけしょう。

しき

こたえ

② バケツとビンのかさのちがいはどれだけしょう。

しき

こたえ

計算を しましょう。

1  $3\text{L} + 2\text{L} =$

2  $4\text{L} + 6\text{L} =$

3  $2\text{dL} + 5\text{dL} =$

4  $3\text{dL} + 4\text{dL} =$

5  $3\text{L} + 2\text{L} 5\text{dL} =$

6  $5\text{L} + 3\text{L} 2\text{dL} =$

7  $3\text{dL} + 4\text{L} 6\text{dL} =$

8  $5\text{L} 2\text{dL} + 2\text{dL} =$

9  $4\text{L} 6\text{dL} + 4\text{L} 3\text{dL} =$

10  $5\text{L} 2\text{dL} + 7\text{L} 7\text{dL} =$

計算を しましょう。

1  $5\text{L} - 2\text{L} =$

2  $10\text{L} - 6\text{L} =$

3  $8\text{dL} - 4\text{dL} =$

4  $9\text{dL} - 3\text{dL} =$

5  $4\text{L} 8\text{dL} - 2\text{L} =$

6  $15\text{L} 9\text{dL} - 4\text{L} =$

7  $5\text{L} 7\text{dL} - 3\text{dL} =$

8  $3\text{L} 8\text{dL} - 6\text{dL} =$

9  $9\text{L} 7\text{dL} - 4\text{L} 5\text{dL} =$

10  $19\text{L} 8\text{dL} - 12\text{L} 7\text{dL} =$