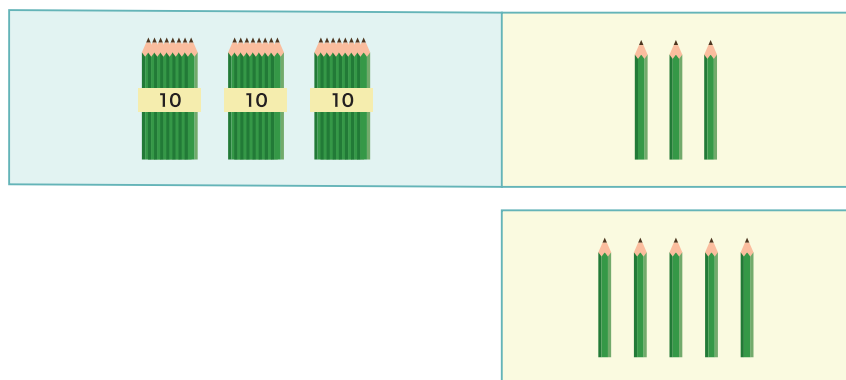


ひき算のひっ算②

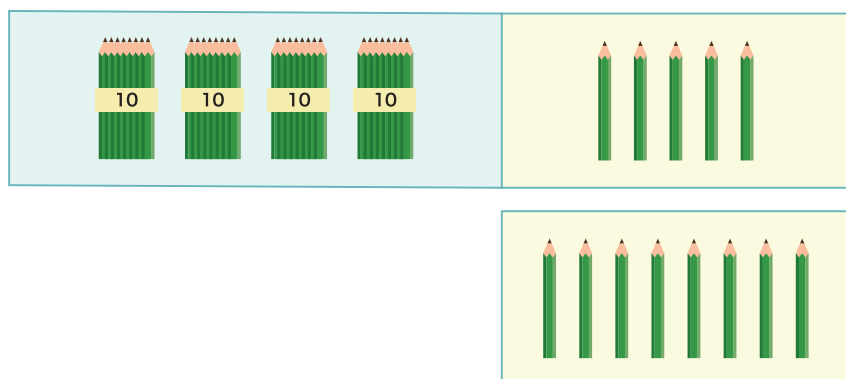
1 つぎの ^{けいさん}計算を ひっ算で しましょう。

① $33 - 5$



	3	3
-		5

② $45 - 8$



	4	5
-		8

2 つぎの 計算を しましょう。

① $43 - 8$

	4	3
-		8

② $58 - 9$

	5	8
-		9

③ $84 - 5$

	8	4
-		5

つぎの けいさん 計算を しましょう。

1 $81 - 3$

	8	1
—		3

2 $46 - 8$

—		

3 $76 - 9$

—		

4 $93 - 7$

—		

5 $25 - 6$

—		

6 $53 - 5$

—		

7 $60 - 8$

—		

8 $83 - 8$

—		

9 $92 - 7$

—		

つぎの ^{けいさん}計算を しましょう。

$$\begin{array}{r} 1 \quad 54 \\ - \quad 3 \\ \hline \end{array}$$

$$\begin{array}{r} 2 \quad 43 \\ - \quad 8 \\ \hline \end{array}$$

$$\begin{array}{r} 3 \quad 97 \\ - \quad 9 \\ \hline \end{array}$$

$$\begin{array}{r} 4 \quad 85 \\ - \quad 6 \\ \hline \end{array}$$

$$\begin{array}{r} 5 \quad 64 \\ - \quad 5 \\ \hline \end{array}$$

$$\begin{array}{r} 6 \quad 70 \\ - \quad 9 \\ \hline \end{array}$$

$$\begin{array}{r} 7 \quad 24 \\ - \quad 6 \\ \hline \end{array}$$

$$\begin{array}{r} 8 \quad 82 \\ - \quad 7 \\ \hline \end{array}$$

$$\begin{array}{r} 9 \quad 75 \\ - \quad 8 \\ \hline \end{array}$$

$$\begin{array}{r} 10 \quad 12 \\ - \quad 4 \\ \hline \end{array}$$

$$\begin{array}{r} 11 \quad 31 \\ - \quad 6 \\ \hline \end{array}$$

$$\begin{array}{r} 12 \quad 90 \\ - \quad 8 \\ \hline \end{array}$$

$$\begin{array}{r} 13 \quad 62 \\ - \quad 6 \\ \hline \end{array}$$

$$\begin{array}{r} 14 \quad 93 \\ - \quad 8 \\ \hline \end{array}$$

$$\begin{array}{r} 15 \quad 18 \\ - \quad 9 \\ \hline \end{array}$$

$$\begin{array}{r} 16 \quad 33 \\ - \quad 5 \\ \hline \end{array}$$

つぎの けいさん 計算を ひっ算で しましょう。

1 $32 - 4$

2 $72 - 6$

3 $94 - 8$

4 $66 - 9$

5 $50 - 5$

6 $29 - 8$

7 $15 - 9$

8 $84 - 7$

9 $43 - 8$

10 $92 - 7$


11 $51 - 4$

12 $60 - 8$

ひき算のひっ算②

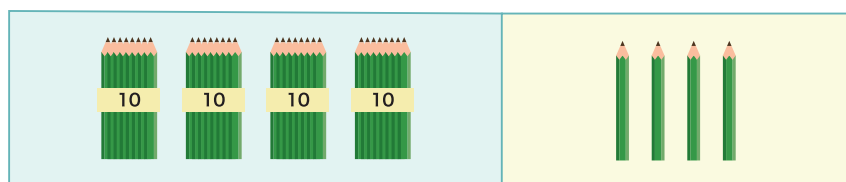
1 つぎの ^{けいさん}計算を ひっ算で しましょう。

① 33 - 25



	3	3
-	2	5

② 44 - 27



	4	4
-	2	7

2 つぎの 計算を しましょう。

① 83 - 45

	8	3
-	4	5

② 66 - 19

	6	6
-	1	9

③ 53 - 24

	5	3
-	2	4

つぎの^{けいさん}計算をしましょう。

1 $60 - 42$

	6	0
-	4	2

2 $41 - 32$

-		

3 $72 - 18$

-		

4 $55 - 28$

-		

5 $84 - 58$

-		

6 $77 - 38$

-		

7 $50 - 15$

-		

8 $36 - 27$

-		

9 $45 - 19$

-		

つぎの ^{けいさん}計算を しましょう。

$$\begin{array}{r} 1 \quad 35 \\ - 19 \\ \hline \end{array}$$

$$\begin{array}{r} 2 \quad 44 \\ - 26 \\ \hline \end{array}$$

$$\begin{array}{r} 3 \quad 68 \\ - 19 \\ \hline \end{array}$$

$$\begin{array}{r} 4 \quad 50 \\ - 22 \\ \hline \end{array}$$

$$\begin{array}{r} 5 \quad 73 \\ - 56 \\ \hline \end{array}$$

$$\begin{array}{r} 6 \quad 51 \\ - 43 \\ \hline \end{array}$$

$$\begin{array}{r} 7 \quad 92 \\ - 39 \\ \hline \end{array}$$

$$\begin{array}{r} 8 \quad 80 \\ - 23 \\ \hline \end{array}$$

$$\begin{array}{r} 9 \quad 47 \\ - 38 \\ \hline \end{array}$$

$$\begin{array}{r} 10 \quad 60 \\ - 46 \\ \hline \end{array}$$

$$\begin{array}{r} 11 \quad 83 \\ - 78 \\ \hline \end{array}$$

$$\begin{array}{r} 12 \quad 73 \\ - 54 \\ \hline \end{array}$$

$$\begin{array}{r} 13 \quad 24 \\ - 15 \\ \hline \end{array}$$

$$\begin{array}{r} 14 \quad 41 \\ - 39 \\ \hline \end{array}$$

$$\begin{array}{r} 15 \quad 54 \\ - 25 \\ \hline \end{array}$$

$$\begin{array}{r} 16 \quad 93 \\ - 56 \\ \hline \end{array}$$

つぎの けいさん 計算を ひっ算で しましょう。

1 $64 - 15$

2 $26 - 18$

3 $53 - 35$

4 $95 - 29$

5 $32 - 26$

6 $88 - 69$

7 $67 - 19$

8 $80 - 46$

9 $51 - 13$

10 $47 - 29$

11 $65 - 28$

12 $77 - 38$