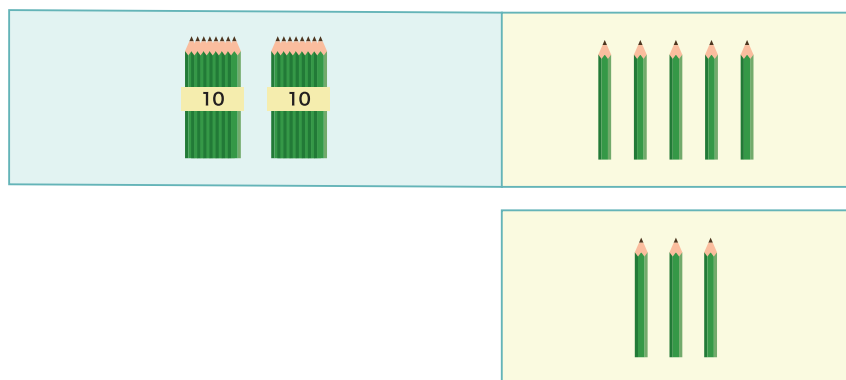


ひき算のひっ算①

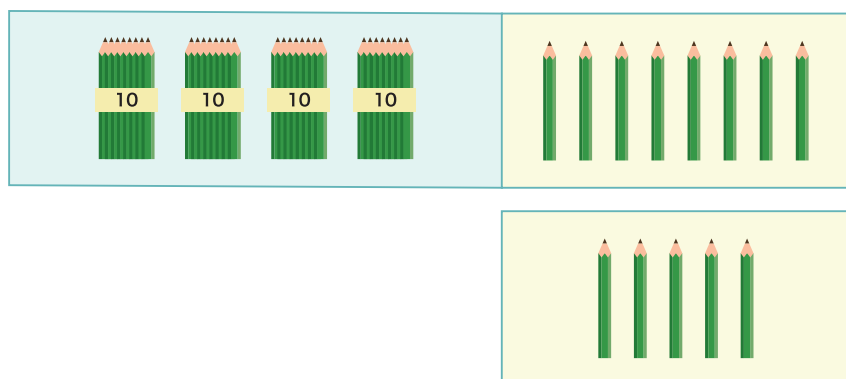
1 つぎの ^{けいさん}計算を ひっ算で しましょう。

① 25 - 3



	2	5
-		3

② 48 - 5



	4	8
-		5

2 つぎの 計算を しましょう。

① 58 - 4

	5	8
-		4

② 39 - 9

	3	9
-		9

③ 97 - 3

	9	7
-		3

つぎの けいさん 計算を しましょう。

1 $58 - 2$

	5	8
—		2

2 $49 - 5$

—		

3 $78 - 6$

—		

4 $65 - 3$

—		

5 $99 - 8$

—		

6 $39 - 9$

—		

7 $26 - 3$

—		

8 $89 - 7$

—		

9 $19 - 7$

—		

つぎの ^{けいさん}計算を しましょう。

$$\begin{array}{r} 1 \quad 69 \\ - \quad 4 \\ \hline \end{array}$$

$$\begin{array}{r} 2 \quad 72 \\ - \quad 2 \\ \hline \end{array}$$

$$\begin{array}{r} 3 \quad 89 \\ - \quad 5 \\ \hline \end{array}$$

$$\begin{array}{r} 4 \quad 58 \\ - \quad 2 \\ \hline \end{array}$$

$$\begin{array}{r} 5 \quad 62 \\ - \quad 1 \\ \hline \end{array}$$

$$\begin{array}{r} 6 \quad 95 \\ - \quad 3 \\ \hline \end{array}$$

$$\begin{array}{r} 7 \quad 47 \\ - \quad 6 \\ \hline \end{array}$$

$$\begin{array}{r} 8 \quad 99 \\ - \quad 2 \\ \hline \end{array}$$

$$\begin{array}{r} 9 \quad 86 \\ - \quad 4 \\ \hline \end{array}$$

$$\begin{array}{r} 10 \quad 63 \\ - \quad 3 \\ \hline \end{array}$$

$$\begin{array}{r} 11 \quad 29 \\ - \quad 2 \\ \hline \end{array}$$

$$\begin{array}{r} 12 \quad 55 \\ - \quad 3 \\ \hline \end{array}$$

$$\begin{array}{r} 13 \quad 38 \\ - \quad 3 \\ \hline \end{array}$$

$$\begin{array}{r} 14 \quad 49 \\ - \quad 7 \\ \hline \end{array}$$

$$\begin{array}{r} 15 \quad 18 \\ - \quad 8 \\ \hline \end{array}$$

$$\begin{array}{r} 16 \quad 27 \\ - \quad 6 \\ \hline \end{array}$$

ひき算のひっ算①

つぎの けいさん 計算を ひっ算で しましょう。

1 $45 - 3$

2 $37 - 2$

3 $81 - 1$

4 $68 - 2$

5 $76 - 4$

6 $29 - 4$

7 $58 - 2$

8 $98 - 3$

9 $84 - 2$

10 $99 - 3$

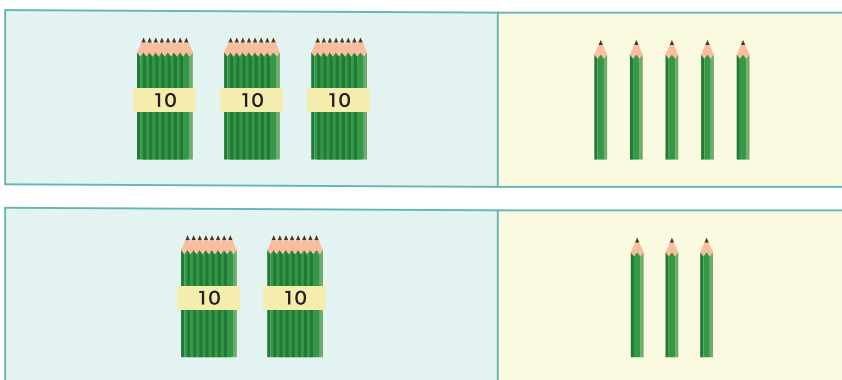
11 $67 - 2$

12 $49 - 2$

ひき算のひっ算①

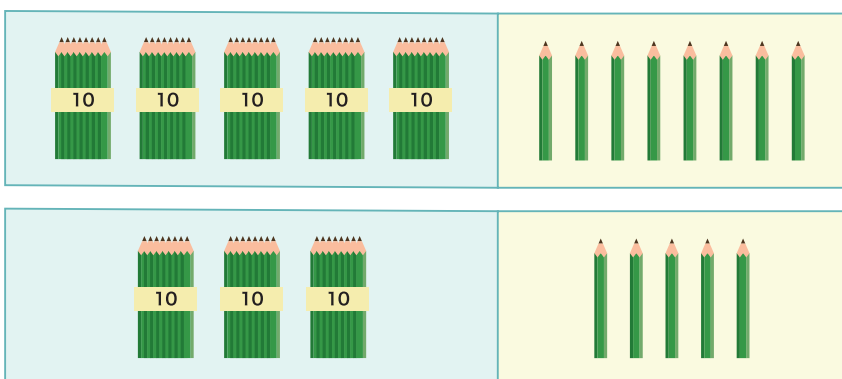
1 つぎの ^{けいさん}計算を ひっ算で しましょう。

① $35 - 23$



	3	5
-	2	3

② $58 - 35$



	5	8
-	3	5

2 つぎの 計算を しましょう。

① $68 - 23$

	6	8
-	2	3

② $45 - 12$

	4	5
-	1	2

③ $99 - 45$

	9	9
-	4	5

ひき算のひっ算①

つぎの けいさん 計算を しましょう。

1 $65 - 12$

	6	5
—	1	2

2 $38 - 23$

—		

3 $89 - 45$

—		

4 $87 - 56$

—		

5 $99 - 79$

—		

6 $46 - 43$

—		

7 $55 - 45$

—		

8 $87 - 25$

—		

9 $77 - 44$

—		

つぎの けいさん 計算を しましょう。

$$\begin{array}{r} 1 \quad 48 \\ - 26 \\ \hline \end{array}$$

$$\begin{array}{r} 2 \quad 29 \\ - 15 \\ \hline \end{array}$$

$$\begin{array}{r} 3 \quad 18 \\ - 17 \\ \hline \end{array}$$

$$\begin{array}{r} 4 \quad 57 \\ - 32 \\ \hline \end{array}$$

$$\begin{array}{r} 5 \quad 75 \\ - 43 \\ \hline \end{array}$$

$$\begin{array}{r} 6 \quad 49 \\ - 23 \\ \hline \end{array}$$

$$\begin{array}{r} 7 \quad 68 \\ - 57 \\ \hline \end{array}$$

$$\begin{array}{r} 8 \quad 36 \\ - 11 \\ \hline \end{array}$$

$$\begin{array}{r} 9 \quad 88 \\ - 66 \\ \hline \end{array}$$

$$\begin{array}{r} 10 \quad 94 \\ - 72 \\ \hline \end{array}$$

$$\begin{array}{r} 11 \quad 97 \\ - 36 \\ \hline \end{array}$$

$$\begin{array}{r} 12 \quad 69 \\ - 47 \\ \hline \end{array}$$

$$\begin{array}{r} 13 \quad 78 \\ - 40 \\ \hline \end{array}$$

$$\begin{array}{r} 14 \quad 99 \\ - 84 \\ \hline \end{array}$$

$$\begin{array}{r} 15 \quad 26 \\ - 23 \\ \hline \end{array}$$

$$\begin{array}{r} 16 \quad 59 \\ - 21 \\ \hline \end{array}$$

つぎの けいさん 計算を ひっ算で しましょう。

1 $77 - 64$

2 $62 - 42$

3 $49 - 17$

4 $58 - 13$

5 $99 - 24$

6 $87 - 65$

7 $45 - 43$

8 $78 - 54$

9 $59 - 40$

10 $83 - 33$

11 $96 - 52$

12 $47 - 22$