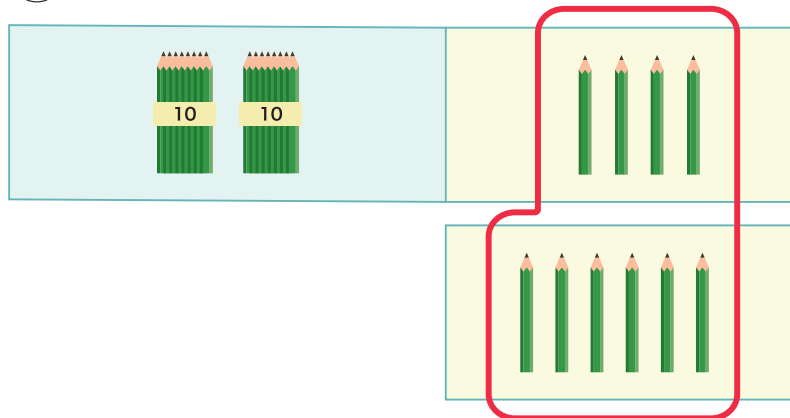


# たし算のひっ算②

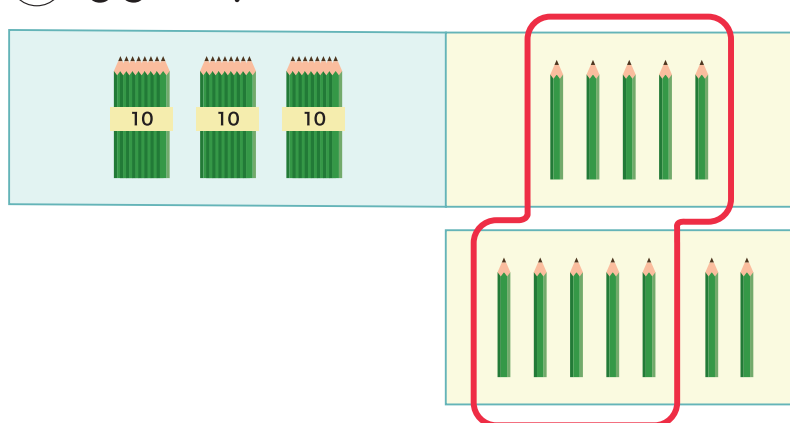
1 つぎの <sup>けいさん</sup>計算を ひっ算で しましょう。

①  $24 + 6$



	2	4
+		6

②  $35 + 7$



	3	5
+		7

2 つぎの 計算を しましょう。

①  $35 + 5$

	3	5
+		5

②  $56 + 6$

	5	6
+		6

③  $67 + 7$

	6	7
+		7

つぎの けいさん 計算を しましょう。

1  $25 + 9$

	2	5
+		9

2  $58 + 3$

+		

3  $48 + 7$

+		

4  $19 + 2$

+		

5  $35 + 8$

+		

6  $89 + 6$

+		

7  $8 + 47$

+		

8  $2 + 79$

+		

9  $6 + 68$

+		

つぎの <sup>けいさん</sup>計算を しましょう。

$$\begin{array}{r} 1 \quad 29 \\ + \quad 3 \\ \hline \end{array}$$

$$\begin{array}{r} 2 \quad 45 \\ + \quad 8 \\ \hline \end{array}$$

$$\begin{array}{r} 3 \quad 51 \\ + \quad 9 \\ \hline \end{array}$$

$$\begin{array}{r} 4 \quad 78 \\ + \quad 9 \\ \hline \end{array}$$

$$\begin{array}{r} 5 \quad 36 \\ + \quad 4 \\ \hline \end{array}$$

$$\begin{array}{r} 6 \quad 84 \\ + \quad 8 \\ \hline \end{array}$$

$$\begin{array}{r} 7 \quad 75 \\ + \quad 6 \\ \hline \end{array}$$

$$\begin{array}{r} 8 \quad 65 \\ + \quad 7 \\ \hline \end{array}$$

$$\begin{array}{r} 9 \quad \quad 9 \\ + 26 \\ \hline \end{array}$$

$$\begin{array}{r} 10 \quad \quad 5 \\ + 77 \\ \hline \end{array}$$

$$\begin{array}{r} 11 \quad \quad 3 \\ + 37 \\ \hline \end{array}$$

$$\begin{array}{r} 12 \quad \quad 8 \\ + 19 \\ \hline \end{array}$$

$$\begin{array}{r} 13 \quad \quad 9 \\ + 61 \\ \hline \end{array}$$

$$\begin{array}{r} 14 \quad \quad 7 \\ + 55 \\ \hline \end{array}$$

$$\begin{array}{r} 15 \quad \quad 8 \\ + 43 \\ \hline \end{array}$$

$$\begin{array}{r} 16 \quad \quad 6 \\ + 89 \\ \hline \end{array}$$

つぎの けいさん 計算を ひっ算で しましょう。

1  $55 + 5$

2  $49 + 2$

3  $37 + 7$

4  $66 + 7$

5  $11 + 9$

6  $86 + 5$

7  $5 + 39$

8  $4 + 28$

9  $2 + 89$

10  $9 + 44$

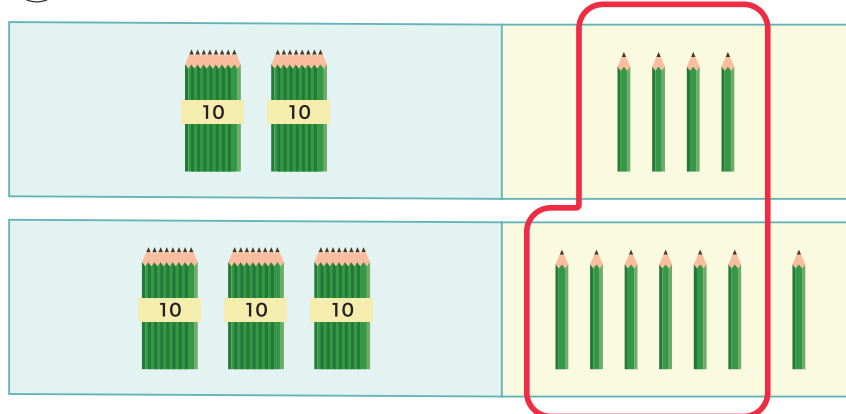
11  $8 + 74$

12  $6 + 48$

# たし算のひっ算②

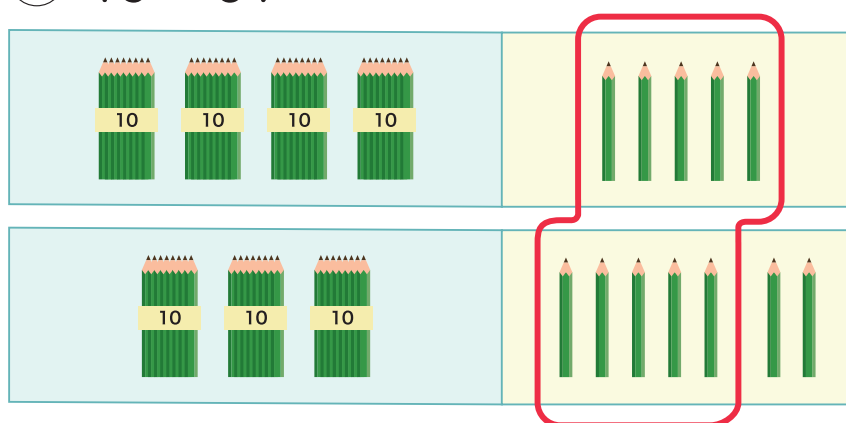
1 つぎの <sup>けいさん</sup>計算を ひっ算で しましょう。

①  $24 + 37$



	2	4
+	3	7

②  $45 + 37$



	4	5
+	3	7

2 つぎの <sup>けいさん</sup>計算を しましょう。

①  $52 + 18$

	5	2
+	1	8

②  $39 + 24$

	3	9
+	2	4

③  $73 + 19$

	7	3
+	1	9

つぎの けいさん 計算を しましょう。

1  $28 + 34$

	2	8
+	3	4

2  $68 + 23$

+		

3  $45 + 19$

+		

4  $55 + 35$

+		

5  $73 + 17$

+		

6  $18 + 38$

+		

7  $49 + 27$

+		

8  $63 + 29$

+		

9  $24 + 27$

+		

つぎの <sup>けいさん</sup>計算を しましょう。

$$\begin{array}{r} 1 \quad 28 \\ + 34 \\ \hline \end{array}$$

$$\begin{array}{r} 2 \quad 68 \\ + 23 \\ \hline \end{array}$$

$$\begin{array}{r} 3 \quad 18 \\ + 12 \\ \hline \end{array}$$

$$\begin{array}{r} 4 \quad 42 \\ + 29 \\ \hline \end{array}$$

$$\begin{array}{r} 5 \quad 44 \\ + 38 \\ \hline \end{array}$$

$$\begin{array}{r} 6 \quad 66 \\ + 26 \\ \hline \end{array}$$

$$\begin{array}{r} 7 \quad 28 \\ + 19 \\ \hline \end{array}$$

$$\begin{array}{r} 8 \quad 25 \\ + 26 \\ \hline \end{array}$$

$$\begin{array}{r} 9 \quad 18 \\ + 42 \\ \hline \end{array}$$

$$\begin{array}{r} 10 \quad 27 \\ + 47 \\ \hline \end{array}$$

$$\begin{array}{r} 11 \quad 36 \\ + 37 \\ \hline \end{array}$$

$$\begin{array}{r} 12 \quad 16 \\ + 38 \\ \hline \end{array}$$

$$\begin{array}{r} 13 \quad 49 \\ + 49 \\ \hline \end{array}$$

$$\begin{array}{r} 14 \quad 33 \\ + 57 \\ \hline \end{array}$$

$$\begin{array}{r} 15 \quad 55 \\ + 29 \\ \hline \end{array}$$

$$\begin{array}{r} 16 \quad 79 \\ + 17 \\ \hline \end{array}$$

つぎの けいさん 計算を ひっ算で しましょう。

1  $13 + 78$

2  $29 + 35$

3  $62 + 28$

4  $42 + 39$

5  $25 + 35$

6  $34 + 17$

7  $55 + 37$

8  $16 + 18$

9  $33 + 19$

10  $79 + 14$

11  $63 + 17$

12  $45 + 28$