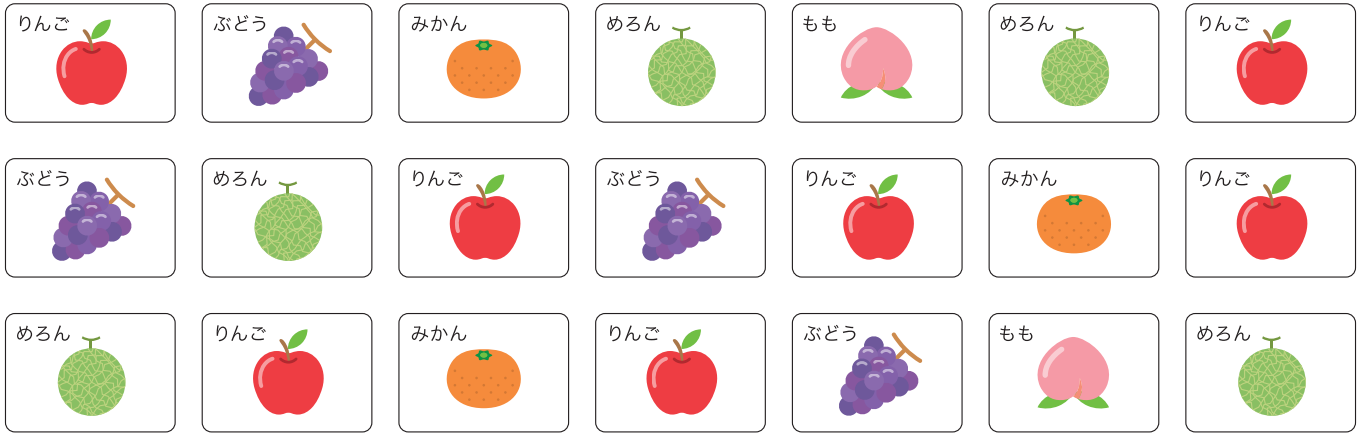


ひょうとグラフ

クラスで すきな くだものを しらべて カードに ^か ^だ書き出しました。



1 ○をつかって ^{みぎ}右の グラフに ^{かず}数を あらわしましょう。

2 いちばん ^{ひと}すきな ^{おお}人が ^{おお}多い ^{おお}くだものは どれですか。

3 いちばん ^{すく}すきな ^{すく}人が ^{すく}少ない ^{すく}くだものは どれですか。


4 ^{した}下の ひょうに ^{した}くだもの ^{した}の 数を かきましょう。

りんご	ぶどう	みかん	めろん	もも

くだもの	りんご	ぶどう	みかん	めろん	もも
数					

ひょうとグラフ

どうぶつのかずを しらべて こたえましょう。



1 ○をつかって 右の グラフに
数を あらわしましょう。

2 数が いちばん 多いのは どの
どうぶつで 何ひき ですか。

で ひき。

3 ぶたと とらの 数は それぞれ
何ひき ですか。

ぶた ひき、とら ひき。


4 ぱんだと うまでは
どちらが 何ひき
多い ですか。

が ひき 多い。

ぶた	ぱんだ	ぞう	うま	とら

ひょうとグラフ

やさいの^{かず}数を しらべて こたえましょう。



1 ○をつかって^{みぎ}右の グラフに
数を あらわしましょう。

2 数が^{おな}同じ やさいは どれと
どれ ですか。

と

3 なすと たまねぎでは どちらが
いくつ^{おお}多いでしょう。

が こ多い。


たまねぎ	ピーまん	とまと	にんじん	なす

4 ^{した}下の ひょうに やさいの 数を かきましょう。

やさい	たまねぎ	ピーまん	とまと	にんじん	なす
数					

ひょうとグラフ

した
下の グラフは 4人^{にん}で 10回^{かい} わなげをして 入^{はい}ったら ○を、
入らなかつたら ×をつけて あらわした ものです。



回数	1	2	3	4	5	6	7	8	9	10
しおり	○	×	○	×	○	○	×	○	×	×
たけし	○	○	○	×	○	○	○	×	○	○
かなこ	×	○	×	○	×	○	×	×	○	×
かずや	○	×	×	○	×	○	○	○	×	○

1 した
下の ひょうに わなげが 入^{はい}った数を かきましょう。

わなげをした人	しおり	たけし	かなこ	かずや
入 ^{はい} った数(こ)				

2 いちばん 多く^{おお} わなげを 入^{はい}れたのは
だれ ですか。

3 いちばん わなげを 入^{はい}れることが できなかつた
のは だれ ですか。

4 たけしさんと しおりさんの わなげの
数の ちがいは いくつ ですか。

こ

5 わなげは 4人 あわせて なんこ 入^{はい}りましたか。

こ

ひょうとグラフ

した
下の ひょうは ^{がつ}1月から4月の ^{と しょ しつ}あいだに ^い図書室に 行って
^{べんぎょう}勉強した ^{かいすう}回数を あらわしています。



月	1月	2月	3月	4月
回数 (回)	7	4	9	8

1 ○をつかって ^{みぎ}右の グラフに
勉強した 回数を あらわしましょう。

2 いちばん ^{おお}多く 勉強したのは
なん月 ですか。

3 いちばん 勉強したのが ^{すく}少なかった
のは なん月 ですか。

4 2月に 勉強した 回数と、3月に
勉強した 回数の 数の
ちがいは いくつですか。 回

5 1月と 4月に 勉強した 回数を
あわせると 全部で 回
なん回に なりますか。

1月	2月	3月	4月

ひょうとグラフ

図書室で 貸し出された 本の数を しらべました。すると
月曜日に 8さつ、火曜日に 6さつ、水曜日に 10さつ、
木曜日に 4さつ、金曜日に 8さつ 貸し出されて いました。



1 下の ひょうに 貸し出された 本の数を かきましょう。

曜日	月曜日	火曜日	水曜日	木曜日	金曜日
数(さつ)					

2 ○をつかって 右の グラフに
本の数を あらわしましょう。

3 本が いちばん 多く
貸し出されたのは
なん曜日 ですか。

4 いちばん多く 本が 貸し出された
曜日と いちばん少なかった 曜日の
本の数の ちがいは
いくつ ですか。

 さつ

5 貸し出された 本の数が 同じだった
のは なん曜日と なん曜日 ですか。

 と

月曜日	火曜日	水曜日	木曜日	金曜日