

○ で かこみましよう。

1 ひだりから 2つめ



2 ひだりから 5つめ



3 みぎから 3つめ



4 ひだりから 4つめ



5 ひだりから 6つめ



6 みぎから 4つめ



○ で かこみましょう。

1 まえから 6 だいめ



2 まえから 2 だいめ



3 うしろから 1 だいめ



4 ひだりから 1 つめ



5 みぎから 6 つめ



6 みぎから 2 つめ



○ で かこみましょう。

1 ひだりから 8 こめ



2 みぎから 6 こめ



3 ひだりから 9 こめ



4 ひだりから 5 こめ



5 まえから 8 だいま



6 うしろから 7 ひきめ



えをみて にあてはまるかずをかきましょう。

ひだり



みぎ

けんた

かなこ

ゆうた

1 けんたさんは ひだりから ばんめに います。

2 かなこさんは みぎから ばんめに います。

3 ゆうたさんは ひだりから ばんめ、

みぎから ばんめに います。

まえ



うしろ

4 うさぎは まえから ばんめに います。

5 ぞうは まえから ばんめ、うしろから ばんめ

に います。


なんばんめ

1 えをみて にあてはまるかずをかきましょう。

① たけるさんは まえから

ばんめにいます。

まえ



ゆか

みほ

たける

うしろ

② ゆかさんは うしろから ばんめにいます。

③ たけるさんの まえには にんいます。

2 えをみて にあてはまるかずをかきましょう。

① あいすは みぎから

ばんめにあります。


うえ



② ぷりんは したから

ばんめにあります。

ひだり



みぎ

③ けーきは うえから ばんめ、

ひだりから ばんめにあります。


した



なんばんめ

えをみて □ にあてはまるかずをかきましょう。

うえ




した

- さくらんぼは うえから □ ばんめにあります。
- れもんは ひだりから □ ばんめにあります。
- ぶどうは したから □ ばんめにあります。
- ぱいなっぷるは みぎから □ ばんめにあります。
- すいかは うえから □ ばんめ、みぎから □ ばんめ、
したから □ ばんめにあります。

1 えをみて にあてはまるかずをかきましょう。

① たけしさんは まえから ばんめにいます。



② かなさんは まえから ばんめ、うしろから ばんめにいます。

③ ゆうたさんの まえには にん います。

④ かなさんの うしろには にん います。

2 えをみて あてはまるくだものを かきましょう。



① ひだりから 3ばんめのくだものは です。

② みぎから 2ばんめのくだものは で、

は ひだりから 4ばんめにあります。

なんばんめ

つぎの えは 1ねん 2くみの きょうしつ の ようすです。

に あてはまる かずや ことばを かきましょう。

まえ

1 まえから 2ばんめ、みぎから 2ばんめの せきはだれの せきですか。

ひだり

| | | | | |
|-----|-----|-----|-----|-----|
| さき | ゆか | たけし | しょう | つばさ |
| さとし | けんた | まさと | かなこ | みか |
| あや | しげる | ももか | ゆうき | りょう |
| しおん | ゆうか | さくら | かずや | ゆい |

みぎ

うしろ

2 ゆうきさんの せきは ばんめひだりから なんばんめ ですか。

3 しげるさんの せきは うしろから ばんめ、みぎから ばんめ にあります。

4 まえから 3ばんめ、ひだりから 5ばんめの せきは だれの せきですか。

5 うしろから 3ばんめ、みぎから 3ばんめは さんの せきで、1つ まえに さんの せきがあります。