


ものひとのかず

がつ にち

なまえ

- 1 5にんの こどもが 1ぽんずつ えんぴつを もっています。
えんぴつは まだ 4ほん あまっています。えんぴつは
ぜんぶで なんほん あるでしょう。



しき

こたえ

ほん

- 2 いすが 9こ あります。こどもが ひとりずつ すわると 3にん
すわれませんでした。こどもは ぜんぶで なんにん いますか。



しき

こたえ

にん

- 3 8にんの こどもに おかしを くばりました。おかしは あと
7こ あまっています。おかしは ぜんぶで なんこ ありますか。


しき

こたえ

こ

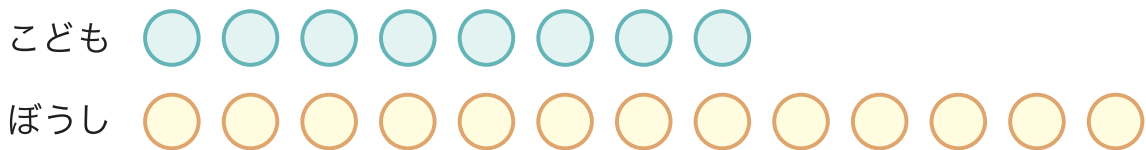
ものとひとのかず

- 1 さやかさんは まえから 5ばんめに います。さやかさんの うしろには 9 にん います。みんなで なんにん いるでしょう。



しき ことえ にん

- 2 8 にんの こどもが ぼうしを かぶって います。ぼうしは 5こ あまっています。ぼうしは ぜんぶで なんこ あるでしょう。




しき ことえ こ

- 3 こどもが いすに 5 にん すわって います。いすが たりずに すわれない こどもが 6 にん いました。こどもは ぜんぶで なんにん いるでしょう。

しき ことえ にん

- 1 めろんが 6 こ あります。みかんは めろんより 7 こ おおいです。みかんは なんこ あるでしょう。



しき

こたえ

こ

- 2 あかい くつが 8 こ あります。しろい くつは あかい くつ より 6 こ おおいです。しろい くつは なんこ ありますか。

しき

こたえ

こ

- 3 じてんしゃが 9 だい あります。こどもが ひとりずつ のると 7 だい ありました。じてんしゃは なんだい ありますか。

しき

こたえ

だい

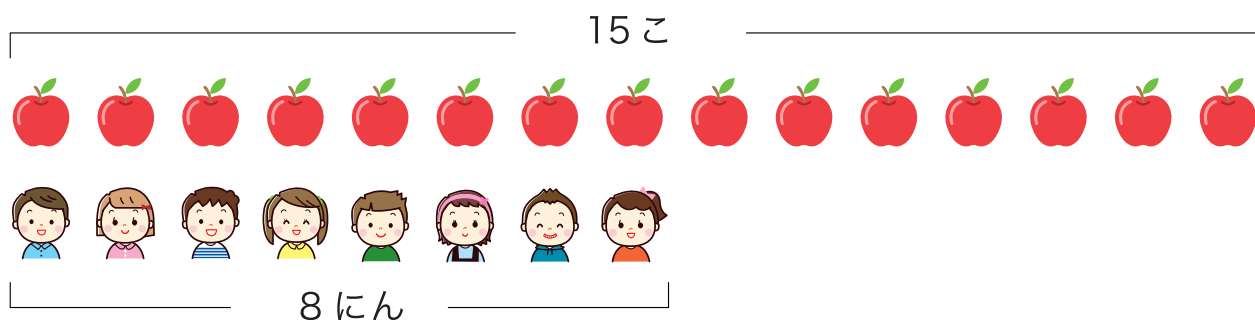
- 4 たけしさんは れつの まえから 3 ばんめに ならんでいます。うしろに 8 にん います。ぜんぶで なんにん ならんでいますか。

しき

こたえ

にん

- 1 りんごが 15 こ あります。8 にんの こどもに 1 こずつ わたすと のこりは なんこに なるでしょう。



しき

こたえ

こ

- 2 12 ほんの えんぴつを 1 ぽんずつ くばります。8 にんの こどもに くばると えんぴつは なんほん あまるでしょう。



しき

こたえ

ほん

- 3 ケーキを 13 こ もらいました。ドーナツは ケーキより 5 こ すくなく もらいました。ドーナツは なんこ もらいましたか。

しき

こたえ

こ

- 1 けしごむが 8こ あります。12 にんの こどもに 1こ ずつ くばると もらえない こどもは なんにん いますか。

こども ○ ○ ○ ○ ○ ○ ○ ○ ○ ○ ○ ○

けしごむ ○ ○ ○ ○ ○ ○ ○ ○

しき

こたえ

にん

- 2 たまいれを しました。あかぐみが 14 こ、しろぐみが 9こ でした。あかぐみは しろぐみより なんこ おおい ですか。

あかぐみ ○ ○ ○ ○ ○ ○ ○ ○ ○ ○ ○ ○ ○ ○ ○ ○

しろぐみ ○ ○ ○ ○ ○ ○ ○ ○ ○ ○

しき

こたえ

こ

- 3 ジュースを 15ほん くばりました。おちゃは ジュースより 7ほん すくなく くばりました。おちゃは なんほん くばりましたか。

しき

こたえ

ほん

ものとおひとのかず

がつ 日にち

なまえ

- 1 こどもが 10 にん ならんで あるいています。けんたさんは
まえから 3 ばんめに います。うしろに なんにん いますか。



しき

こたえ

にん

- 2 あかい はなが 12 ほん さきました。あおい はなは あかい
はなより 6 ほん すくなく さきました。あおい はなは
なんほん さきましたか。

しき

こたえ

ほん

- 3 おりがみが 14 まい あります。9 にんの こどもに 1 まい
ずつ くばると おりがみは なんまい ありますか。

しき

こたえ

まい

- 4 7 ほんの ペンを 16 にんの こどもに くばります。ペンを
もらえない こどもは なんにん いますか。

しき

こたえ

にん

ものひとのかず

- 1 こどもが 1 れつに ならんでいます。さやかさんは まえから 4 ばんめで うしろには 8 にん ならんでいます。 みんなで なんにん いるでしょう。

しき

こたえ

にん

- 2 りんごが 15 こ あります。7 にんの こどもに わたすと りんごは なんこ のこるでしょう。

しき

こたえ

こ

- 3 7 にんが ひとりずつ ぼーるを もっています。ぼーるは あと 5 こ あまっています。ぼーるは ぜんぶで なんこ あるでしょう。

しき

こたえ

こ

- 4 こどもが 12 にん ならんでいます。こうじさんは まえから 6 ばんめ にいます。こうじさんの うしろには なんにん ならんで いるでしょう。

しき

こたえ

にん