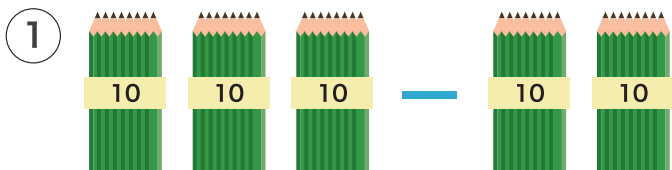



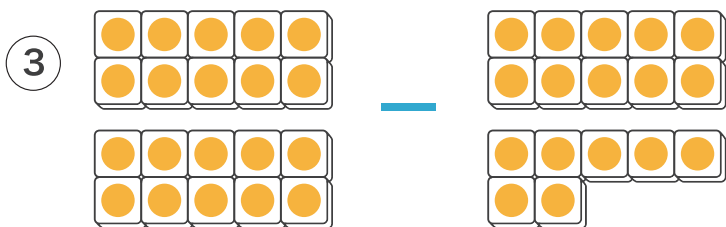
1 えをみて ひきざんを しましょう。



$$\square - \square = \square$$



$$\square - \square = \square$$



$$\square - \square = \square$$

2 ひきざんを しましょう。

① $40 - 30 = \square$

② $60 - 20 = \square$

③ $100 - 40 = \square$

④ $85 - 3 = \square$

⑤ $79 - 6 = \square$

⑥ $99 - 8 = \square$

3 いろがみが 38まい あります。6まい つかうと
のこりは なんまいに なりますか。



しき

こたえ

まい

1 ひきざんを しましょう。

① $80 - 30 =$

② $90 - 30 =$

③ $100 - 70 =$

④ $100 - 5 =$

⑤ $39 - 4 =$

⑥ $69 - 6 =$

2 こたえが 20 になる かあどに ○を つけて、こたえが 20にならない かあどには こたえを かきましょう。

80 - 60

90 - 70

40 - 20

60 - 30

3 おはじきが 70こ あります。8こ ともだちに あげました。のこりは なんこに なりましたか。



しき

こたえ

こ

1 に あてはまる かずを かきましょう。

① $70 - \square = 50$

② $90 - \square = 30$

③ $\square - 20 = 80$

④ $\square - 10 = 26$

⑤ $100 - \square = 95$

⑥ $\square - 25 = 70$

2 おなじ こたえになる かあどを ●—● で むすび

に こたえを かきましょう。

$60 - 30$ ●

$90 - 40$

$100 - 60$ ●

$50 - 20$

$60 - 40$ ●

$80 - 40$

$80 - 30$ ●

$100 - 20$

$90 - 10$ ●

$70 - 50$

1 ひきざんを しましょう。

① $50 - 30 = \square$

② $80 - 40 = \square$

③ $100 - 10 = \square$

④ $38 - 5 = \square$

⑤ $76 - 4 = \square$

⑥ $98 - 14 = \square$

2 \square に あてはまる かずを かきましょう。

① $60 - \square = 40$

② $80 - \square = 50$

③ $\square - 40 = 30$

④ $\square - 4 = 41$

⑤ $99 - \square = 93$

⑥ $\square - 10 = 85$

3 ぷりんとかが 59まい あります。7まいつかうと
のこりは なんまいに なりますか。



しき

こたえ

まい

ひきざんを しましょう。

$1 \quad 90 - 20 = \square$

$2 \quad 80 - 30 = \square$

$3 \quad 60 - 10 = \square$

$4 \quad 50 - 20 = \square$

$5 \quad 70 - 30 = \square$

$6 \quad 40 - 20 = \square$

$7 \quad 100 - 30 = \square$

$8 \quad 30 - 10 = \square$

$9 \quad 58 - 8 = \square$

$10 \quad 74 - 4 = \square$

$11 \quad 23 - 3 = \square$

$12 \quad 92 - 2 = \square$

$13 \quad 46 - 6 = \square$

$14 \quad 55 - 5 = \square$

ひきざんを しましょう。

$1 \quad 90 - 40 = \square$

$2 \quad 80 - 50 = \square$

$3 \quad 80 - 40 = \square$

$4 \quad 100 - 70 = \square$

$5 \quad 98 - 8 = \square$

$6 \quad 100 - 5 = \square$

$7 \quad 85 - 5 = \square$

$8 \quad 88 - 4 = \square$

$9 \quad 79 - 6 = \square$

$10 \quad 55 - 3 = \square$

$11 \quad 68 - 4 = \square$

$12 \quad 97 - 3 = \square$

$13 \quad 35 - 2 = \square$

$14 \quad 46 - 5 = \square$

ひきざんを しましょう。

$1 \quad 85 - 5 = \square$

$2 \quad 77 - 4 = \square$

$3 \quad 55 - 10 = \square$

$4 \quad 98 - 20 = \square$

$5 \quad 64 - 30 = \square$

$6 \quad 71 - 20 = \square$

$7 \quad 78 - 15 = \square$

$8 \quad 43 - 12 = \square$

$9 \quad 36 - 14 = \square$

$10 \quad 95 - 25 = \square$

$11 \quad 82 - 32 = \square$

$12 \quad 69 - 28 = \square$

$13 \quad 100 - 35 = \square$

$14 \quad 99 - 57 = \square$

ひきざんを しましょう。

$1 \quad 85 - 10 = \square$

$2 \quad 66 - 8 = \square$

$3 \quad 92 - 6 = \square$

$4 \quad 31 - 9 = \square$

$5 \quad 73 - 7 = \square$

$6 \quad 46 - 8 = \square$

$7 \quad 95 - 6 = \square$

$8 \quad 53 - 5 = \square$

$9 \quad 35 - 6 = \square$

$10 \quad 83 - 14 = \square$

$11 \quad 44 - 15 = \square$

$12 \quad 67 - 28 = \square$

$13 \quad 100 - 29 = \square$

$14 \quad 100 - 11 = \square$

ひきざんを しましょう。

$1 \quad 88 - 9 = \square$

$2 \quad 57 - 8 = \square$

$3 \quad 96 - 7 = \square$

$4 \quad 100 - 9 = \square$

$5 \quad 100 - 12 = \square$

$6 \quad 65 - 6 = \square$

$7 \quad 76 - 17 = \square$

$8 \quad 43 - 19 = \square$

$9 \quad 49 - 28 = \square$

$10 \quad 81 - 36 = \square$

$11 \quad 61 - 22 = \square$

$12 \quad 72 - 45 = \square$

$13 \quad 54 - 16 = \square$

$14 \quad 100 - 43 = \square$

ひきざんを しましょう。

$1 \quad 88 - 16 = \square$

$2 \quad 57 - 36 = \square$

$3 \quad 96 - 48 = \square$

$4 \quad 72 - 28 = \square$

$5 \quad 83 - 54 = \square$

$6 \quad 42 - 15 = \square$

$7 \quad 100 - 39 = \square$

$8 \quad 55 - 27 = \square$

$9 \quad 48 - 19 = \square$

$10 \quad 67 - 39 = \square$

$11 \quad 56 - 19 = \square$

$12 \quad 100 - 52 = \square$

$13 \quad 100 - 24 = \square$

$14 \quad 92 - 47 = \square$