



どちらが ながいでしょう。①、②で こたえましょう。

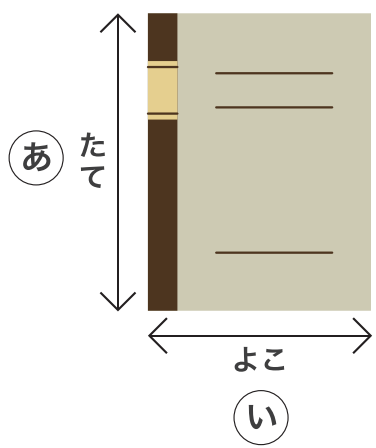
1



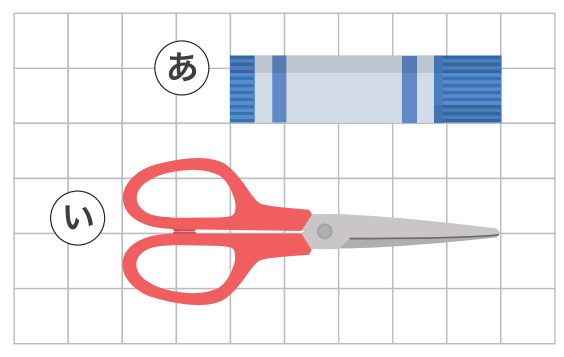
2




3



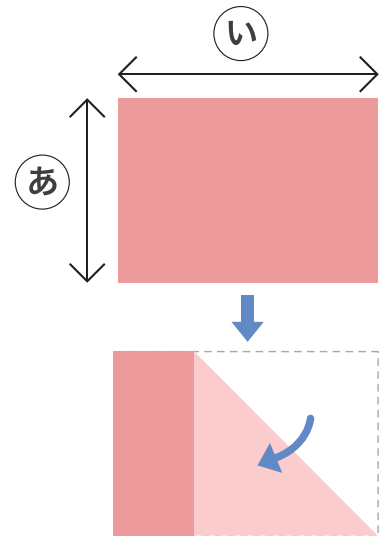
4



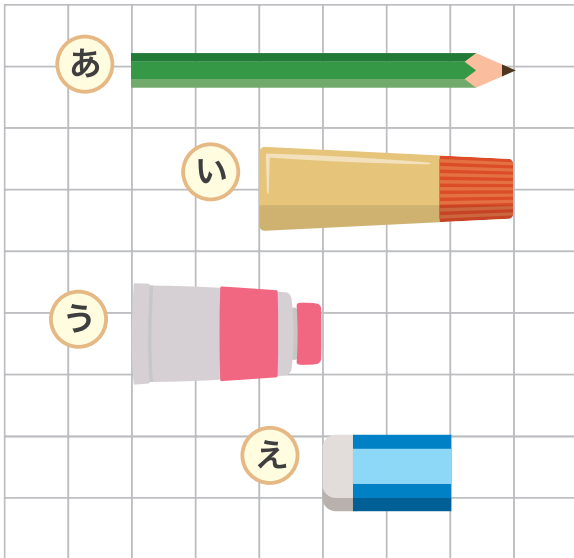
5



6



1 えをみて あ、い、う、え で こたえましょう。




① いちばん ながいのは
どれでしょう。

② いちばん みじかいのは
どれでしょう。

③ 2ばんめに ながいのは
どれでしょう。

2 ながい じゅんに あ、い、う、え、お を かきましょう。


 → → → →

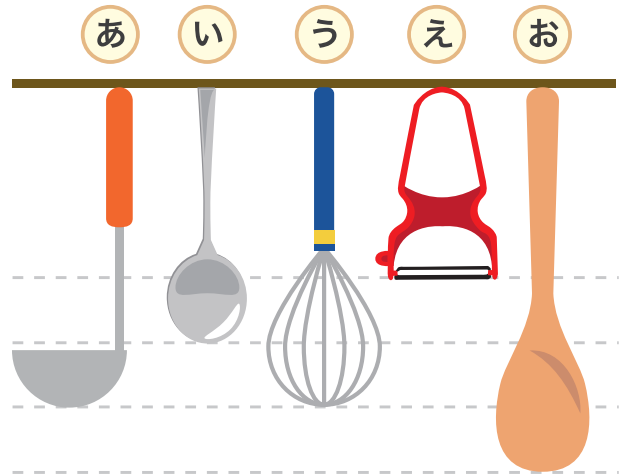
1 えをみて あ、い、う、え、お で こたえましょう。

① いちばん ながい
ものは どれでしょう。

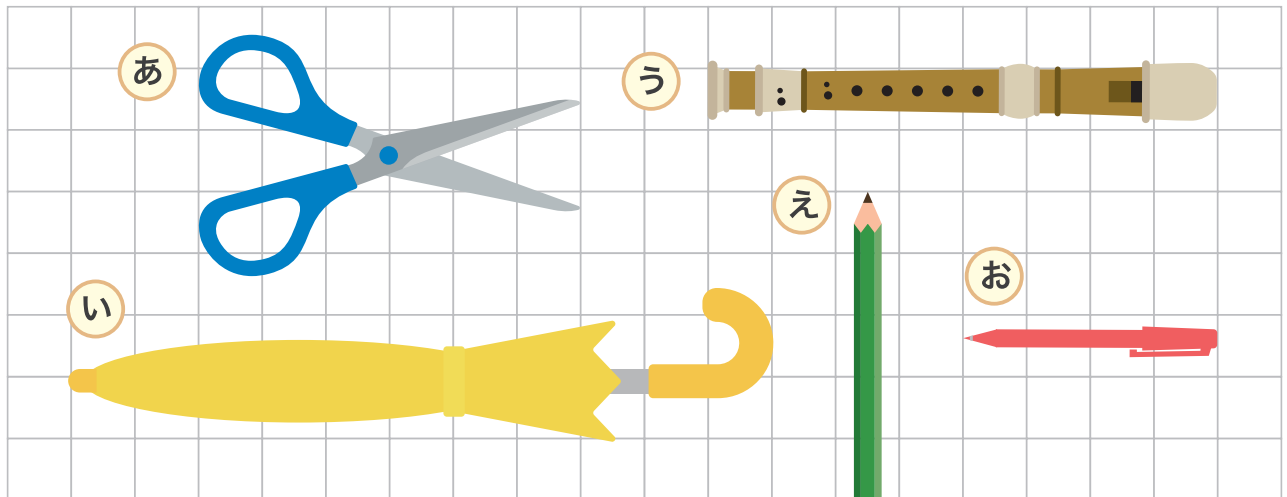
② いちばん みじかい
ものは どれでしょう。

③ ながさが おなじものは
どれと どれでしょう。

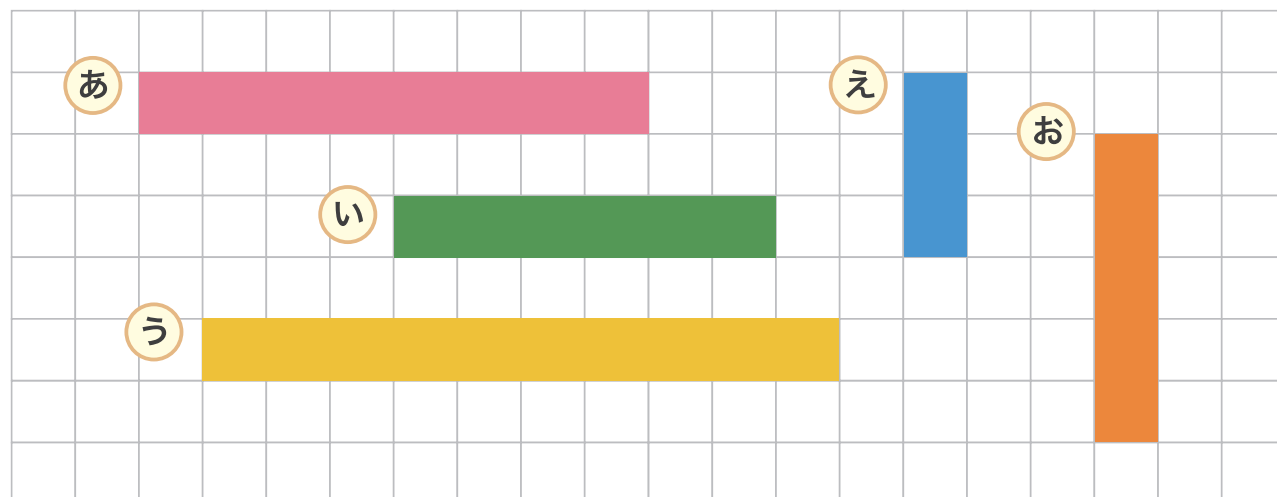
と



2 ながい じゅんに あ、い、う、え、お を かきましょう。


 → → → →

ながさを しらべて こたえましょう。



1 あ、う、お は ますの いくつぶんの ながさになるでしょう。

あ つぶん う つぶん お つぶん

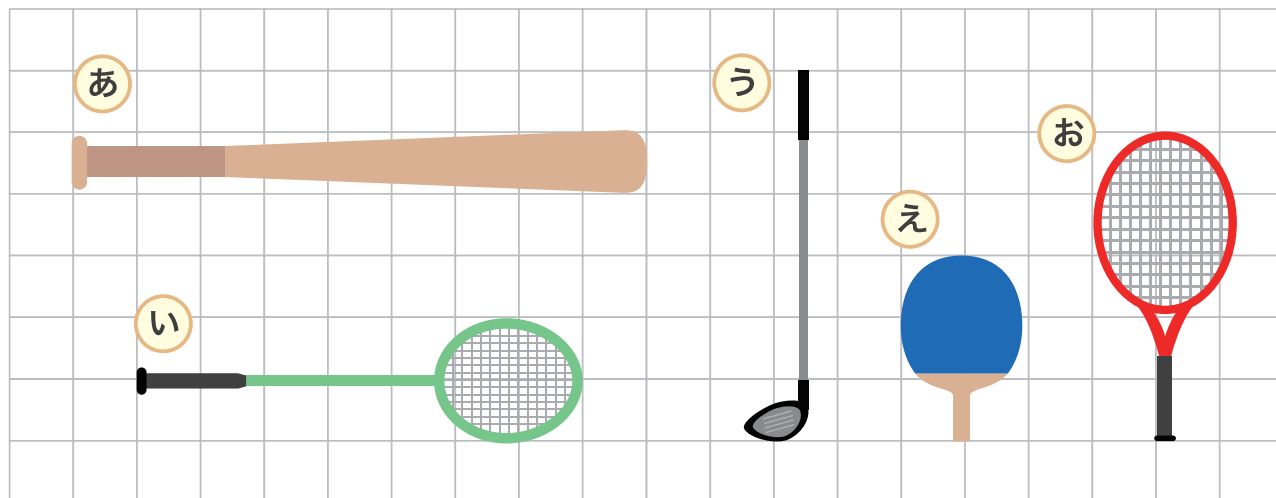
2 どちらが ますの いくつぶん ながいでしょう。

① あ と え では が つぶん ながい

② い と う では が つぶん ながい

③ え と お では が つぶん ながい

ながさを しらべて こたえましょう。



1 (い) は ますの いくつぶんの ながさでしょう。 つぶん

2 (あ) と (お) では どちらが ますの が つぶん
いくつぶん ながい でしょう。 ながい

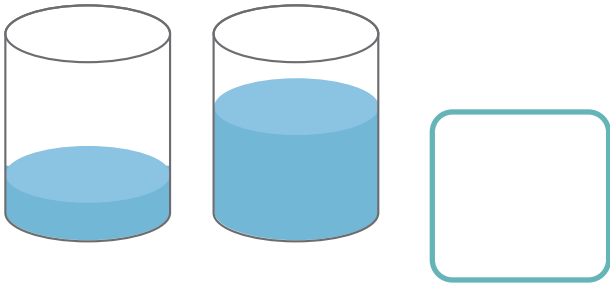
3 (い) と (う) では どちらが ますの が つぶん
いくつぶん みじかい でしょう。 みじかい

4 (う) と (え) を あわせると ますの つぶん
いくつぶんの ながさになる でしょう。

1 みずが おおく はいって いるのは どちらでしょう。


①

あ い



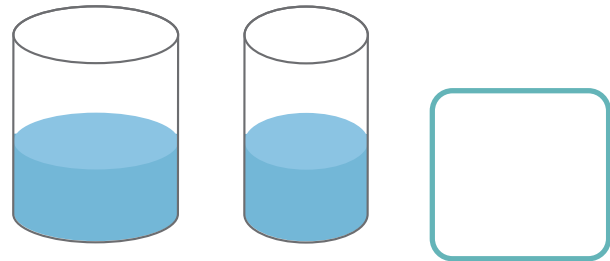
②

あ い




③

あ い



④


あ い



2 みずが いちばん おおく はいって いるのは どれでしょう。


①

あ い う







②

あ い う



いれものにはいった みずを こっぷに うつして くらべました。



1 あ、い、う には こっぷ なんばいぶんの みずが はいるでしょう。

あ はい い はい う はい

2 あ は う より なんばい おおくの みずが はいるでしょう。

はい

3 みずが いちばん おおく はいる いれものは どれでしょう。

4 みずが おおく はいる じゅんに ならべましょう。

→ →

1 みずが おおく はいっている じゅんに ならべましょう。

① あ い う

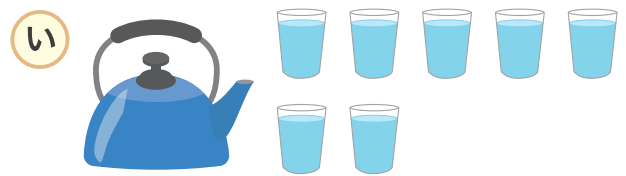

② あ い う

2 いれものにはいった みずを こっぷに うつして くらべました。

あ い う

- ① あ には こっぷ なんばいぶんの みずが はいりますか。 はい
- ② みずが いちばん おおく はいるのは あ ~ う のうち どれですか。
- ③ う は い より なんばい おおく みずが はいりますか。 はい

- 1 いれものにはいったみずをこっぷにうつしてくらべました。
□にあてはまるかずやことばをかきましょう。



- ① あはこっぷ□はいぶん、いはこっぷ□はい
ぶんのみずがはいります。

- ② みずがおおくはいるいれものは□でもうひとつの
いれものより□はいおおくみずがはいります。

- 2 おなじかたちのこっぷにみずをいれてくらべます。
あてはまるものをあ～えでこたえましょう。

- ① いちばんみずがおおく
はいつているのはどれですか。 □
- あ い う え
-

- ② みずが3ばんめに
おおくはいつているのはどれですか。 □

- ③ みずがいちばんすくないのはどれですか。 □

小
一

さんすうもんだい

おおきさくらべ / ひろさくらべ

がつ 日にち


なまえ

どちらが ひろいでしょう。①、②で こたえましょう。

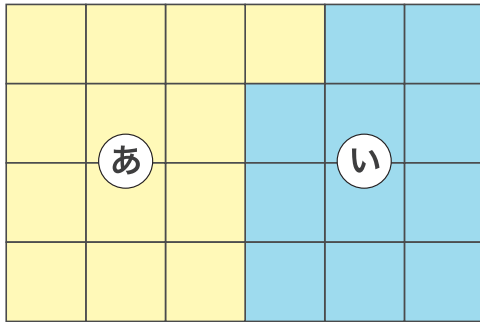
1

①



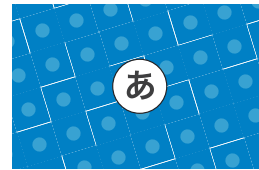
②



2




3




4

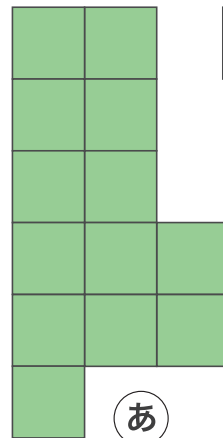
①



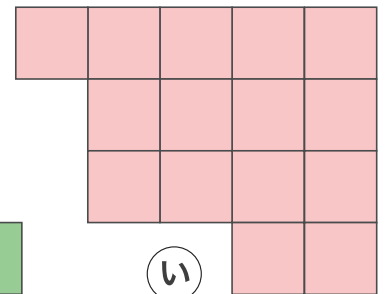
②



5



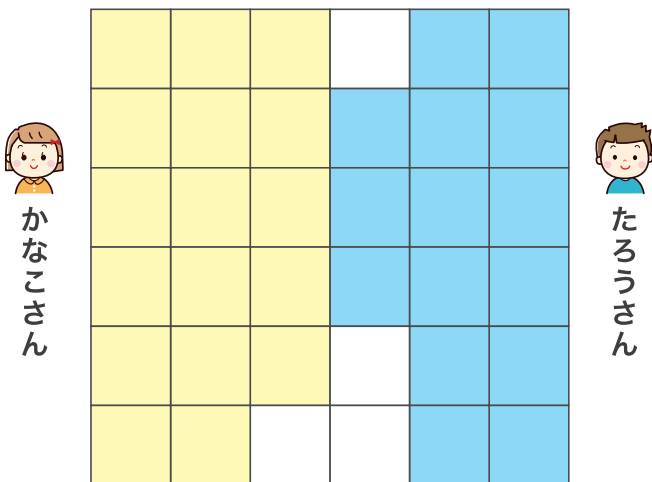
①



②



ばしよとりあそび をしました。じゃんけんで かったら ますを
ひとつずつ ぬって おおく ぬった ほうが 勝ちです。



1 かなこさんと たろうさんは
ますを なんこ とっていますか。

かなこさん

こ

たろうさん

こ

2 このあと かなこさんが じゃんけんで 2かい 勝ちました。
そのあと たろうさんが 1かい 勝ちました。
かなこさんと たろうさんの ますは なんこに なりましたか。

かなこさん

こ

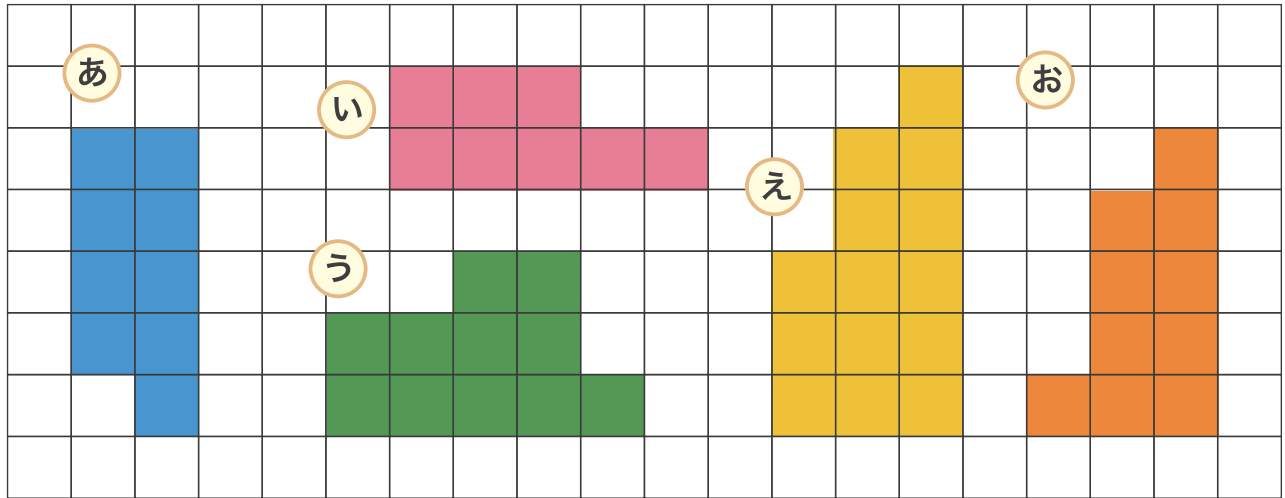
たろうさん

こ

3 どちらが 勝ちましたか。また かったほうの ますは
まけたほうの ますより なんこ おおかった でしょう。

かったのは で こ おおかった

1 ひろい じゆんに あ、い、う、え、お を かきましょう。



→ → → →

2 あ は ■ が なんこぶん ありますか。

こ

3 え は ■ が なんこぶん ありますか。

こ

4 い は お の なんこぶん すくない ですか。

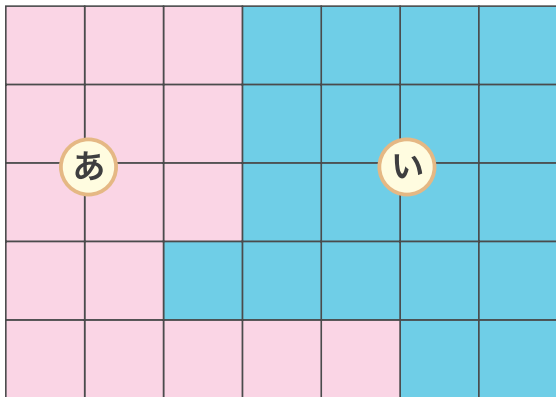
こ

5 え は う より なんこぶん おおい ですか。

こ

1 ① ② の かみを ならべて ひろさを くらべました。

に あてはまる かずや ことばを かきましょう。



① ① ② は なんまい まい
ありますか。

② ① ② は なんまい まい
ありますか。

③ ① ② は どちらが ひろい ですか。

④ ひろい ほうの かみは せまい ほうの かみより まい
なんまい おおい ですか。

2 ① ② は どちらが ひろい でしょう。また ひろい ほうは
なんこぶん おおい か こたえ しましょう。

① ひろいのは で こ おおい。

② ひろいのは で こ おおい。