


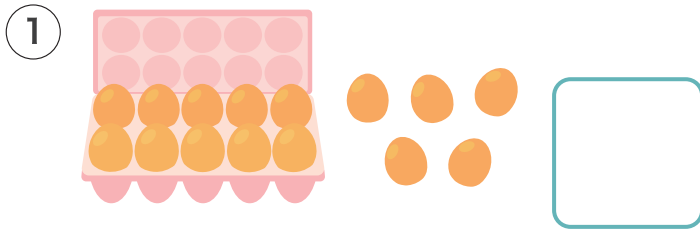


11から 20までの かずを かいて おぼえましょう。

11	じゅういち 	11							
12	じゅうに 	12							
13	じゅうさん 	13							
14	じゅうし(よん) 	14							
15	じゅうご 	15							
16	じゅうろく 	16							
17	じゅうしち(なな) 	17							
18	じゅうはち 	18							
19	じゅうく(きゅう) 	19							
20	にじゅう 	20							

1 かずを かぞえて □ に かきましょう。



2 あてはまる かずを □ に かきましょう。

① 15 は 10 と □

② 19 は □ と 9

③ 13 は 10 と □

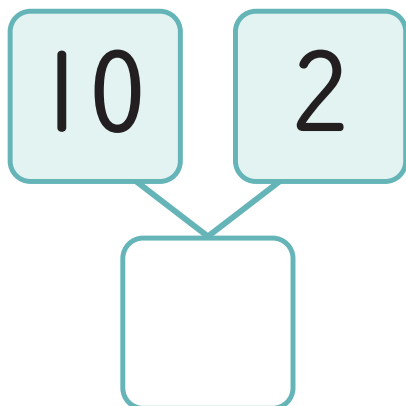
④ 20 は 10 と □

⑤ 10 と □ で 16

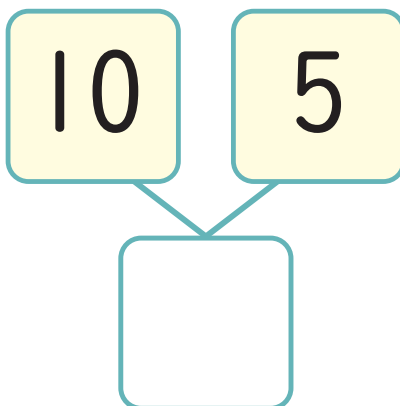
⑥ 10 と □ で 18

あてはまる かずを  に かきましょう。

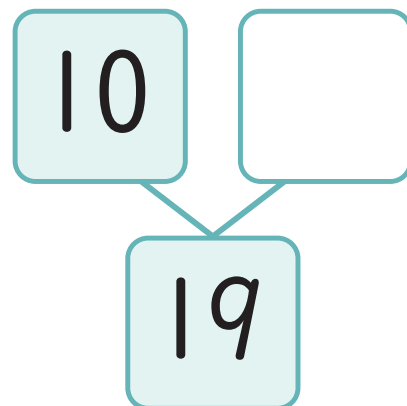
1



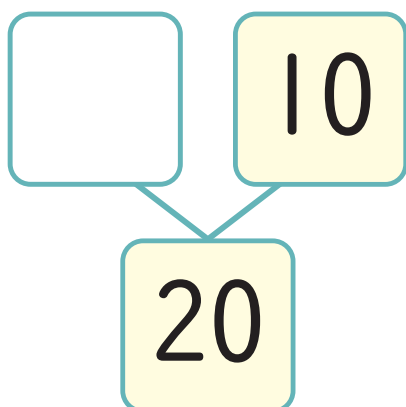
2



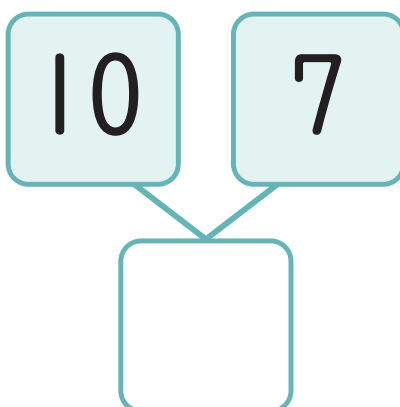
3



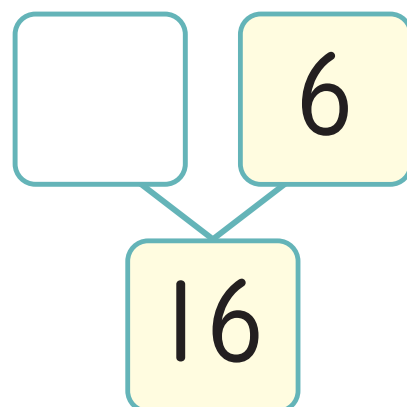
4



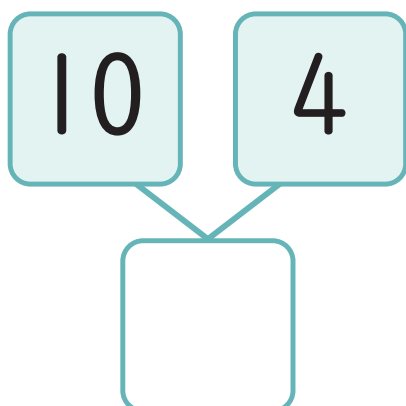
5



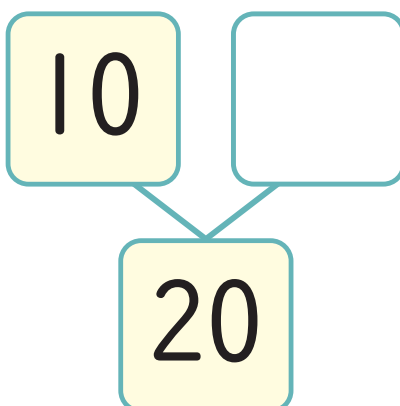
6



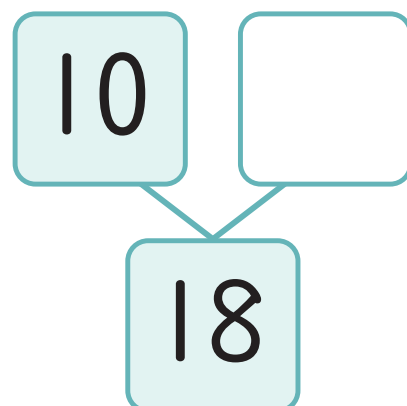
7



8



9



あてはまる かずを □ に かきましょう。

1

10	11		13		15
----	----	--	----	--	----

2

12		14		16	
----	--	----	--	----	--

3

14			17		19
----	--	--	----	--	----

4

15	14		12		10
----	----	--	----	--	----

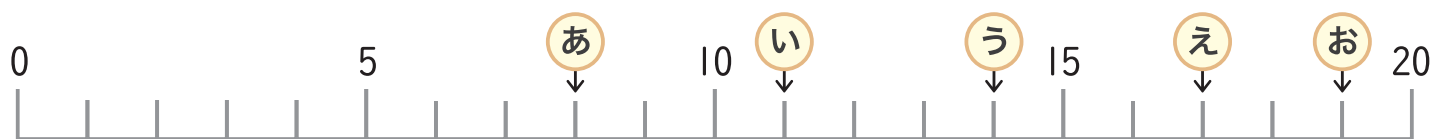
5

20			17		15
----	--	--	----	--	----

6

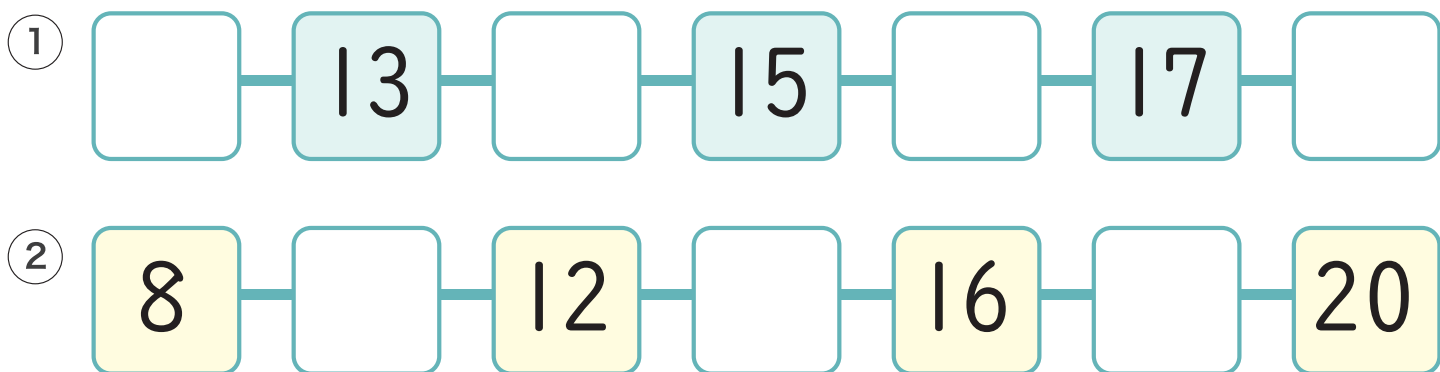
10		14		18	20
----	--	----	--	----	----

1 かずのせんをみて □にあてはまるかずをかきましょう。



あ □    い □    う □    え □    お □

2 あてはまるかずを □にかきましょう。



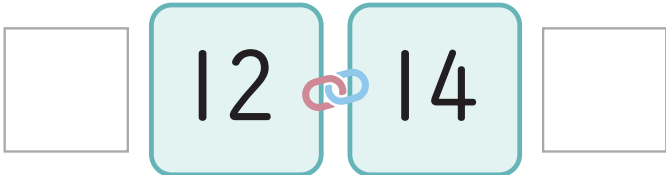
3 あてはまるかずを ぜんぶ かきましょう。

① 12と17のあいだにあるかず

② 15と20のあいだにあるかず

1 かずが おおきいほうの □ に まるをつけましょう。

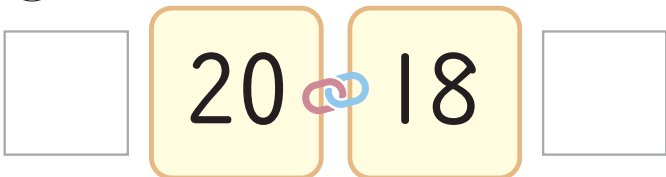
①



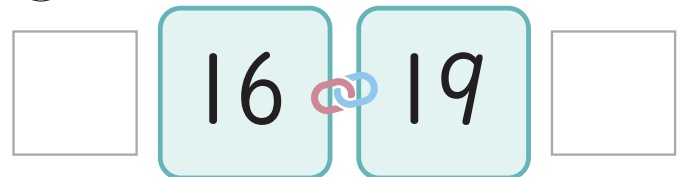
②



③



④



2 かずのせんをみて □ に あてはまる かずをかきましょう。



① 11より2 おおきいかずは □

② 16より3 おおきいかずは □

③ 8より7 おおきいかずは □

④ 14より2 ちいさいかずは □

⑤ 19より6 ちいさいかずは □

⑥ 20より4 ちいさいかずは □

1 いちばん おおきい かずの □ に ○ を つけましょう。

①	12	18	15	②	19	17	18
	<input type="checkbox"/>	<input type="checkbox"/>	<input type="checkbox"/>		<input type="checkbox"/>	<input type="checkbox"/>	<input type="checkbox"/>
③	16	20	12	④	14	15	17
	<input type="checkbox"/>	<input type="checkbox"/>	<input type="checkbox"/>		<input type="checkbox"/>	<input type="checkbox"/>	<input type="checkbox"/>

2 つぎの かずを ちいさい かずから じゅんにかきましょう。

① 10、8、15、18	② 16、13、10、9
<input type="text"/>	<input type="text"/>
③ 19、17、12、20	④ 16、20、13、11
<input type="text"/>	<input type="text"/>
⑤ 13、15、11、20、17、16、19、10	
<input type="text"/>	