


























かずを せいりして しらべて みましょう。

1 くだものの かずだけ いろを めりましょう。



りんご 	    
ばなな 	    
みかん 	    
すいか 	    

2 いちばん おおい くだものは
どれですか。

3 いちばん すくない くだものは
どれですか。

4 りんごは なんこ ありますか。

こ

5 みかんは なんこ ありますか。

こ

かずしらべ

かずを せいりして しらべて みましょう。

1 おやつのかずだけ いろを めりましょう。

	けーき					
	きゃんてい					
	ぷりん					
	どーなつ					

2 いちばん おおい おやつは
どれですか。

3 かずが おなじ おやつは
どれと どれ ですか。

 と

4 どーなつと ぷりんの かずは
それぞれ なんこ ですか。


どーなつ こ ぷりん こ

























5 きゃんていは どーなつより
なんこ おおい ですか。

 こ

かずを せいりして しらべて みましょう。

1 どうぶつの かずだけ いろを ぬりましょう。



いぬ 	    
ねこ 	    
うさぎ 	    
ぞう 	    

2 5ひき いるのは どの どうぶつ
ですか。

3 かずが 3ばんめに おおいは
どの どうぶつ ですか。


4 かずが 3ばんめに すくないのは
どの どうぶつ ですか。

5 うさぎは ぞうより
なんひき おおいですか。

 ひき

かずしらべ

やさいの かずを しらべて せいり しましょう。



1 やさいの かずだけ みぎの えに
いるを ぬりましょう。

2 いちばん かずが すくない やさいは
どれですか。

3 いちばん かずが おおい やさいは
どれですか。

4 ぴいまんは なんこ
ありますか。

5 にんじんは とまとより
なんこ おおい ですか。

6 2ばんめに すくない やさいは
どれですか。

とまと	にんじん	ぴいまん	なすび

かずしらべ

としよしつで かりられた ほんの かずを しらべました。



げつ



か



すい



もく

1 かりられた ほんの かずだけ
みぎの えに いろを ぬりましょう。

2 いちばん ほんが おおく かりられた
のは なんようび

3 ほんが 7さつ かりられたのは
なんようび

4 すいようびに かりられた
ほんの かずは さつ
なんさつ ですか。

5 いちばん ほんが かりられ なかった
ようびと いちばん おおく かりられた ようびの さつ
ほんの かずの ちがいは なんさつ ですか。

げつ	か	すい	もく