

1 たしざんを しましょう。

① $2 + 0 =$

② $3 + 0 =$

③ $0 + 5 =$

④ $0 + 8 =$

⑤ $9 + 0 =$

⑥ $0 + 0 =$

2 こたえが 5になる かあどに ○をつけて、こたえが 5にならない かあどには こたえを かきましょう。


$2 + 3$

$5 + 0$

$5 + 1$

$4 + 1$

3 わなげを しました。1かいめに 3こ はいり、
2かいめは はいりませんでした。わなげは
ぜんぶで なんこ はいりましたか。



しき

こたえ

こ

- 1 ぼうるすくいを しました。1かいめに 4こ すくい、
2かいめと 3かいめは すくえませんでした。



- ① 1かいめと 2かいめを あわせると
ぼうるは なんこに なりますか。

しき

こたえ

こ

- ② 2かいめと 3かいめを あわせると ぼうるは
なんこに なりますか。

しき

こたえ

こ

- 2 おなじ こたえになる かあどを ●—●で むすびましょう。

$4 + 1$

●

●

$3 + 4$

$6 + 0$

●

●

$0 + 5$

$5 + 3$

●

●

$8 + 0$

$0 + 7$

●

●

$2 + 4$

1 ひきざんを しましょう。

① $2 - 0 =$

② $3 - 0 =$

③ $0 - 0 =$

④ $8 - 0 =$

⑤ $5 - 0 =$

⑥ $10 - 0 =$

2 こたえが 3 になる かあどに ○をつけて、こたえが 3 にならない かあどには こたえを かきましょう。


9 - 6

7 - 5

3 - 0

10 - 7

3 2つのおさらのりんごのかずのちがいをこたえましょう。



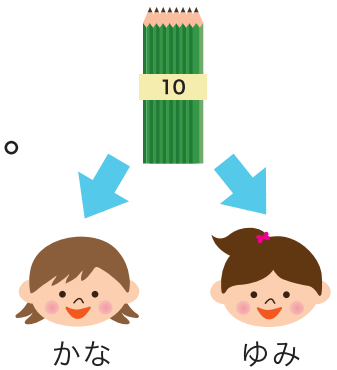
しき

こたえ

こ

1 えんぴつが 10 ぽん あります。かなさんに
4 ほんかして、ゆみさんには かしませんでした。

① かなさんと ゆみさんの えんぴつの かずの
ちがいは なんほん ですか。



しき

こたえ

ほん

② のこっている えんぴつは なんほん ですか。

しき

こたえ

ほん

2 おなじ こたえになる かあどを ●—● で むすびましょう。

$6 - 0$



$4 - 0$

$5 - 1$



$8 - 0$

$3 - 0$



$8 - 2$

$10 - 2$



$9 - 6$

1 たしざんを しましょう。

$1 + 0 = \square$

$0 + 0 = \square$

$0 + 3 = \square$

$4 + 0 = \square$

$6 + 0 = \square$

$0 + 8 = \square$

$9 + 0 = \square$

$10 + 0 = \square$

2 ひきざんを しましょう。

$1 - 0 = \square$

$0 - 0 = \square$

$2 - 0 = \square$

$4 - 0 = \square$

$5 - 0 = \square$

$7 - 0 = \square$

$9 - 0 = \square$

$10 - 0 = \square$

1 かあどの こたえが おおきいほうの に ○ を つけましょう。

① $2 + 0$ $1 + 2$

② $1 + 3$ $0 + 5$

③ $7 + 0$ $4 + 2$

④ $5 + 3$ $9 + 0$

2 かあどの こたえが ちいさいほうの に ○ を つけましょう。

① $5 - 3$ $3 - 0$

② $5 - 0$ $7 - 3$

③ $10 - 3$ $8 - 0$

④ $9 - 2$ $6 - 0$