


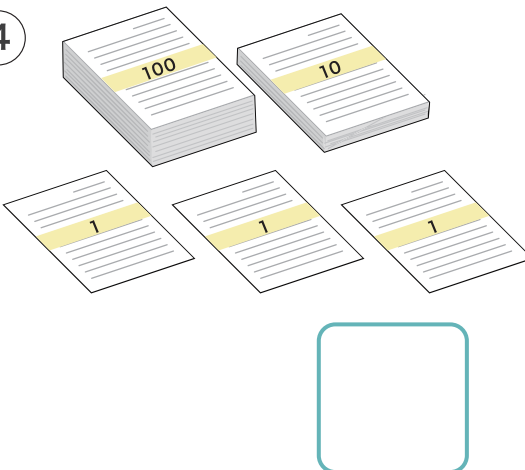


1 かずを かぞえて □ に かきましょう。

① 

② 

③ 

④ 

2 あてはまる かずを □ に かきましょう。

① 100 と 5 で

② 100 と 10 で

③ 100 と 14 で

④ 100 と 18 で

⑤ 120 は 100 が こと 10 が こ のかず です。

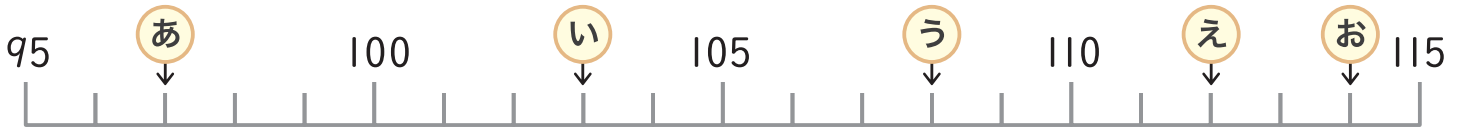
1 あてはまる かずを □ に かきましょう。

- ① 10 が 10 ことで □ ② 10 が 12 ことで □
- ③ 100 が 1 こと 1 が 5 ことで □ ④ 100 が 1 こと 10 が 1 ことで □
- ⑤ 103 は 100 が □ こと 1 が □ このかず です。
- ⑥ 120 は 100 が □ こと 10 が □ このかず です。

2 あてはまる かずを □ に かきましょう。

- ① 60 — 70 — □ — 90 — □ — □ — 120
- ② 114 — □ — 116 — □ — 118 — □ — □
- ③ 104 — □ — □ — 101 — □ — □ — 98

1 かずのせんをみて □にあてはまるかずをかきましょう。



あ □ い □ う □ え □ お □

2 あてはまるかずを □にかきましょう。

① 101 — □ — □ — 104 — □ — 106 — □

② 90 — 95 — □ — 105 — □ — □ — 120

3 あてはまるかずを □にかきましょう。


① 100より5おおきいかずは □ ② 100より10おおきいかずは □

③ 100より18おおきいかずは □ ④ 100より10ちいさいかずは □

⑤ 100より5ちいさいかずは □ ⑥ 100より20ちいさいかずは □

1 かずが おおきいほうの に まるを つけましょう。


①

90  100


②

105  104


③

118  119


④

120  110

⑤

100  99

⑥

102  112

2 あてはまる かずを に かきましょう。

① 100 より
3 おおきい かずは

② 100 より
16 おおきい かずは

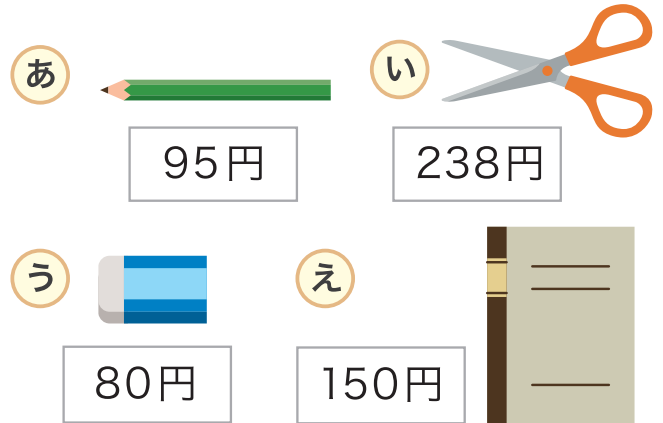
③ 100 より
1 ちいさい かずは

④ 120 より
10 ちいさい かずは













⑤ 100 と 6 を
あわせた かずは

⑥ 100 と 12 を
あわせた かずは

- 1 つぎの **あ**～**え** のなかで
100えんだまで かえるものを
ぜんぶ かきましょう。



- 2 つぎの おかねは ぜんぶで いくらあるか こたえましょう。

①    ②     ③     

えん えん えん

- 3 つぎの かずを ちいさい かずから じゅんにかきましょう。

① 80、100、90、60

② 105、112、84、99

③ 92、78、114、86、105、109、118

④ 115、100、120、116、102、108、113