

クラスで1人ずつ すきなおやつを^{しら}調べて カードに書き出しました。



- 1 左の表に 正の字を^{つか}使って 人数を^{しら}調べてから
右の表に 数字で 人数と 合計を書きましょう。

ドーナツ	
ケーキ	
チョコレート	
アメ	
クッキー	

しゅるい	人数 (人)
ドーナツ	
ケーキ	
チョコレート	
アメ	
クッキー	
合計	

- 2 すきな人が 一番多いおやつと 一番少ないおやつを
答えましょう。

一番多い
おやつ ...

一番少ない
おやつ ...

クラスで1人ずつ すきなくだものを調^{しら}べて カードに書き出しました。

もも	めろん	みかん	ぶどう	めろん	もも	ぶどう	めろん
めろん	もも	ぶどう	めろん	みかん	めろん	もも	ぶどう
ぶどう	ぶどう	めろん	みかん	めろん	ぶどう	めろん	もも
めろん	みかん	ぶどう	もも	めろん	ぶどう	めろん	もも

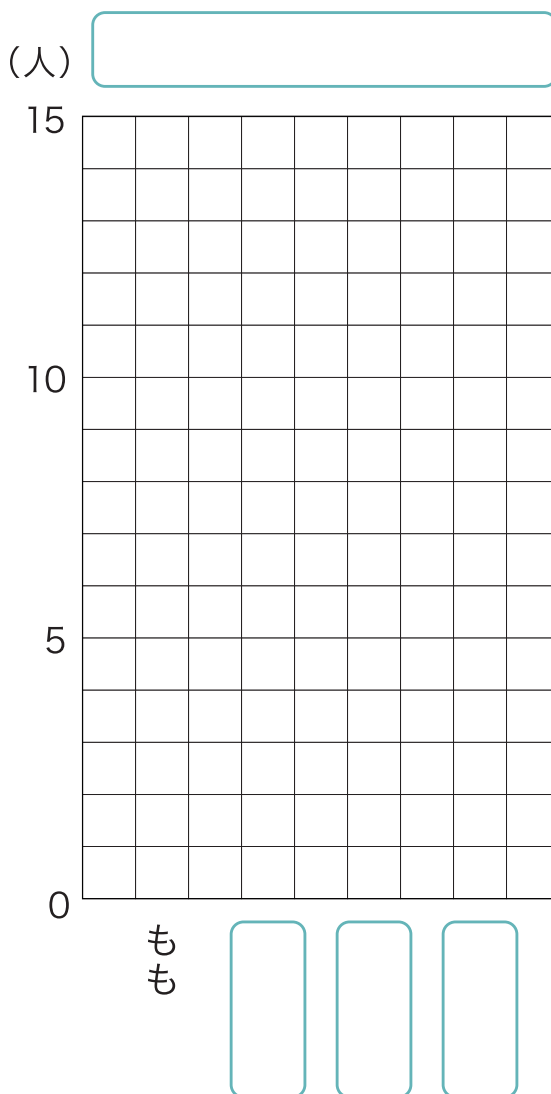
1 下の表に 正の字で 人数を^{あらわ}表しましょう。

もも	
めろん	
みかん	
ぶどう	

2 下の表に 正の字で 表した 人数を 数字になおして 書き出しましょう。

しゅるい	人数 (人)
もも	
めろん	
みかん	
ぶどう	
合計	

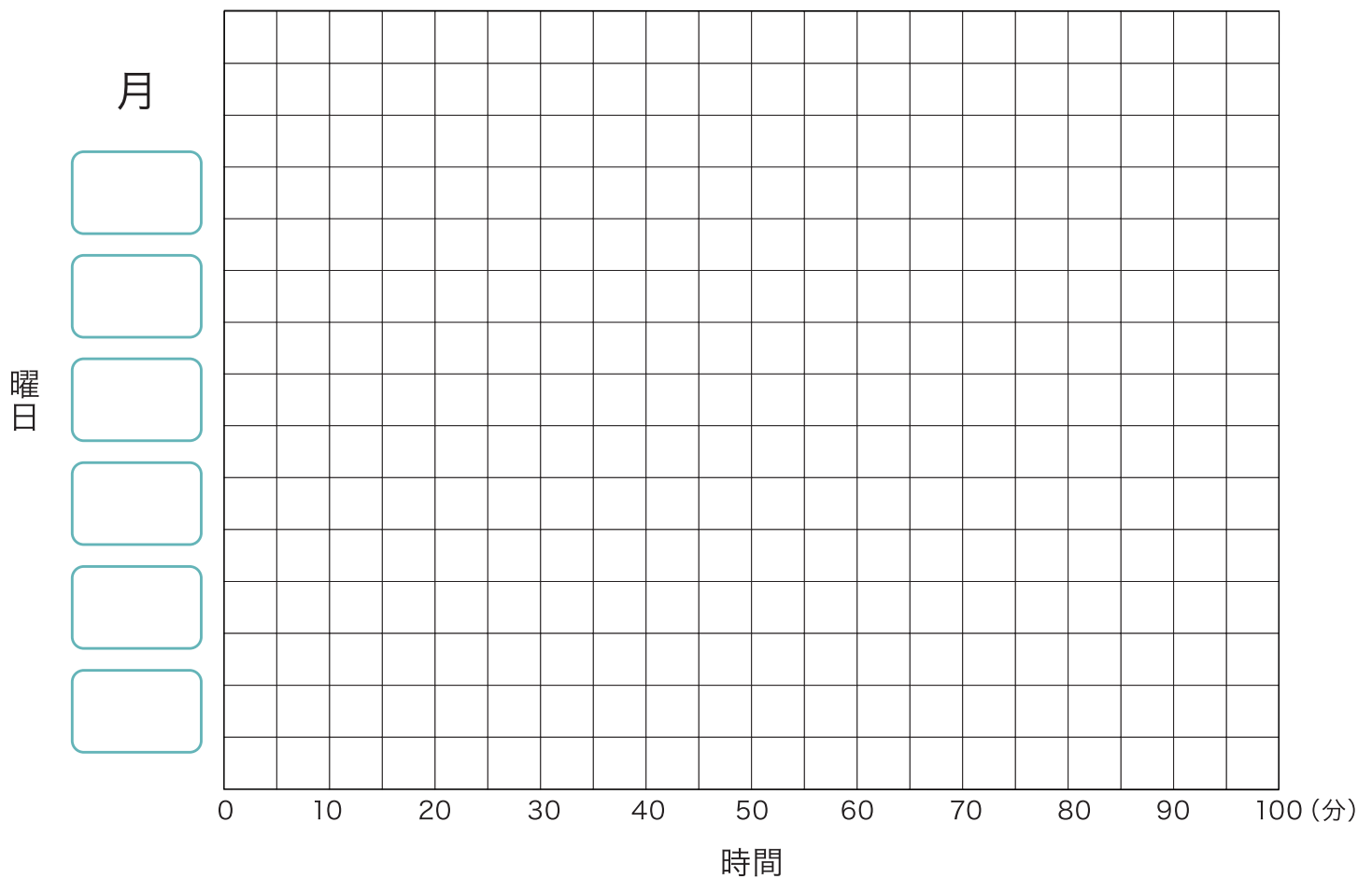
3 に あてはまる言葉を入れて 2 の表を ぼうグラフでも 表しましょう。



下の表は 先週家で勉強した 曜日と時間を ^{あらわ}表したものです。

曜日	月	火	水	木	金	土	日
時間(分)							

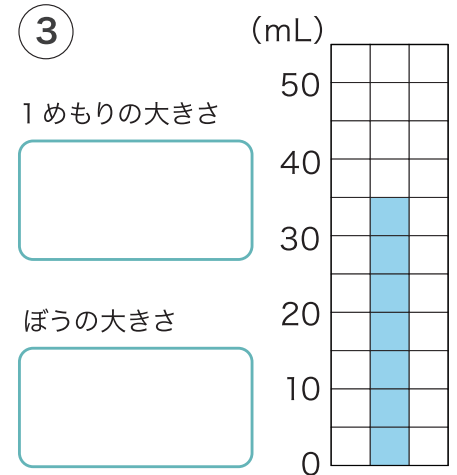
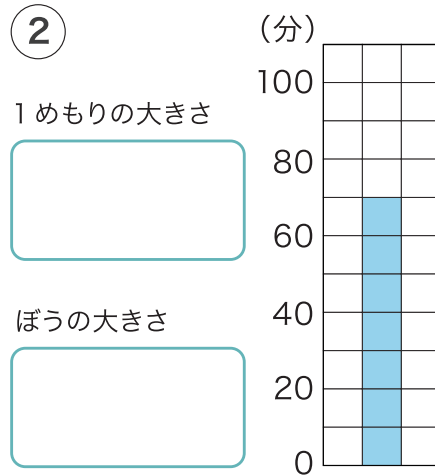
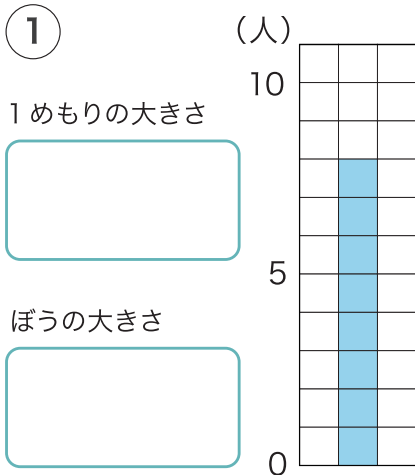
1 に あてはまる 言葉を入れ 上の表を
ぼうグラフでも 表しましょう。



2 勉強時間が 同じなのは と
何曜日と 何曜日ですか。

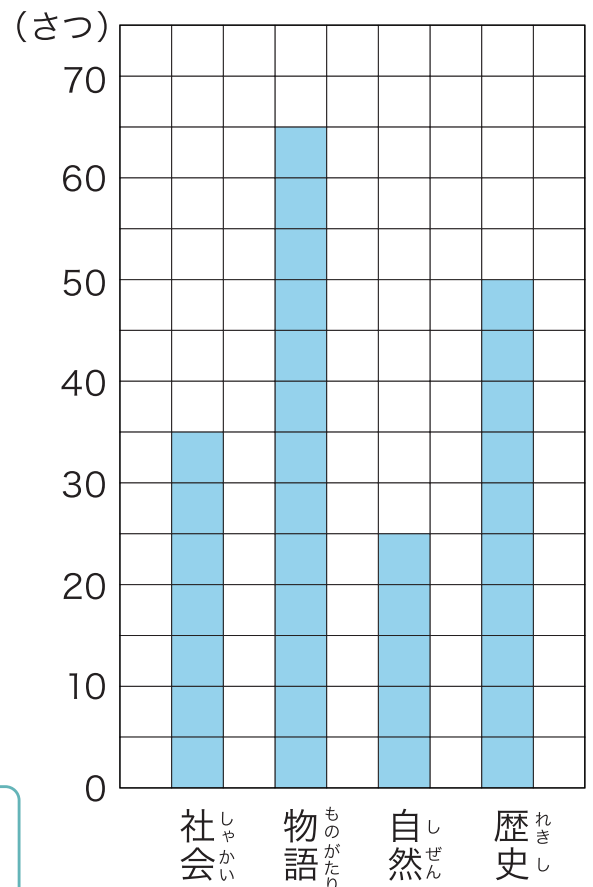
あらわ

1 下のぼうグラフの 1 めもりの大きさと ぼうが表している大きさを たんいをつけて 答えましょう。



2 右のぼうグラフは 先週 図書室で かりられた本の しゅるいと数を 表しています。

図書室でかりられた本のしゅるいと数



① ぼうグラフの 1 めもりは 何さつを 表していますか。

② 一番多くかりられたのは 何の本ですか。

③ 歴史の本は 自然の本より 何さつ 多く かりられましたか。

下の表は 1 月、2 月、3 月に 図書室で本をかりた人数を
学年ごとに ^{あらわ}表したものです。

1 月		2 月		3 月	
学年	人数(人)	学年	人数(人)	学年	人数(人)
1 年生	15	1 年生	18	1 年生	22
2 年生	20	2 年生	25	2 年生	31
3 年生	28	3 年生	30	3 年生	34
合計	63	合計	73	合計	87

1 上の表を 一つの表に まとめましょう。

図書室で本をかりた人数の調べ (人)

学年 \ 月	1 月	2 月	3 月	合計
1 年生				
2 年生				
3 年生				
合計				

2 3ヶ月で 1 番本をかりた人数が多い
学年は 何年生ですか。

3 3ヶ月で 1 番本をかりた人数が
少ないのは 何月ですか。

4 2年生は 3ヶ月で 何人本をかりましたか。

5 3ヶ月で 本をかりた人数の 合計は何人ですか。

右の表は 1組と2組の
 クラスごとに すきな動物の
 しゅるいを調べて 表に
 まとめたものです。

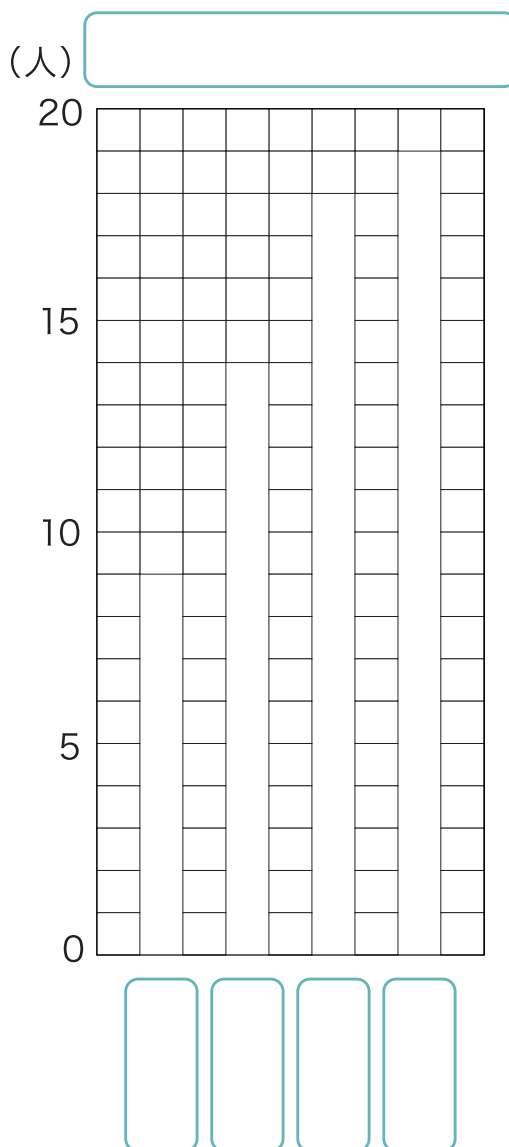
1組		2組	
しゅるい	人数(人)	しゅるい	人数(人)
ぞう	6	ぞう	3
きりん	5	きりん	9
らいおん	11	らいおん	7
うさぎ	9	うさぎ	10
合計	31	合計	29

1 上の表を 一つの表に
 まとめましょう。

すきな動物と人数の調べ (人)

しゅるい \ 組	1組	2組	合計
ぞう			
きりん			
らいおん			
うさぎ			
合計			

4 1組と2組の すきな動物
 の合計を ぼうグラフで
 表しましょう。



2 1組と2組をあわせて 一番すきな
 人が多いのは どの動物ですか。

3 1組と2組をあわせて らいおんが
 すきな人の合計は 何人ですか。

月	日
名前	

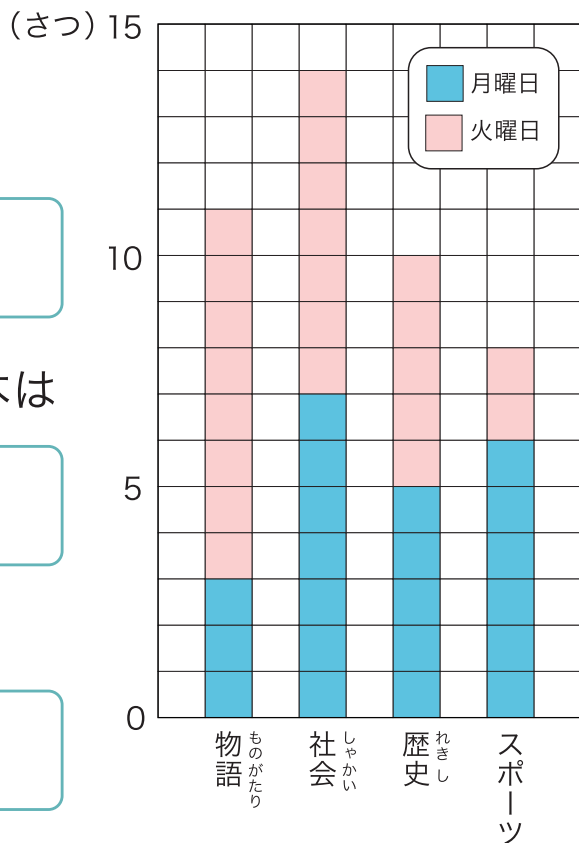
1 右のグラフは 月曜日と火曜日に
図書室でかりられた本の数と
しゅるいを ^{あらわ} 表したものです。

① 月曜日と火曜日をあわせて
一番多くかりられた
本は どれですか。

② 月曜日と火曜日をあわせて 物語の本は
スポーツの本より 何さつ
多くかりられましたか。

③ 歴史の本は 月曜日と火曜日
をあわせて 合計なんさつ
かりられましたか。

図書室でかりられた本のしゅるいと数



2 右のグラフは 一年生から三年生が
3月と4月で ほけん室^{りょう}を利用した
人数を 表したものです。

① 一年生から三年生の中で ほけん室を
一番利用した人数が多いのは 何年生で
何月ですか。

② 二年生で ほけん室を利用した人は
3月から4月にかけて
何人ふえましたか。

(人) ほけん室を利用した学年と人数

