

小  
一

さんすうもんだい

あわせていくつ/ふえるといくつ

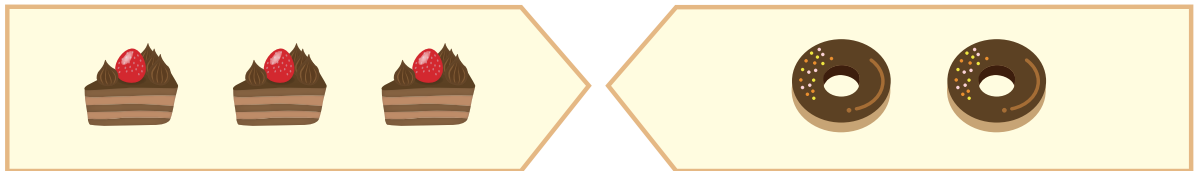
がつ 日にち

なまえ

ケーキと どーナつは あわせて いくつに なりますか。

にかずを 入れて しきと こたえを かきましょう。

1



ケーキ

どーナつ

しき

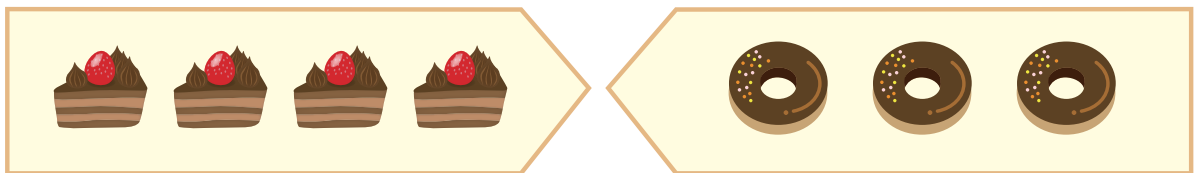
+

=

こたえ

こ

2



ケーキ

どーナつ

しき

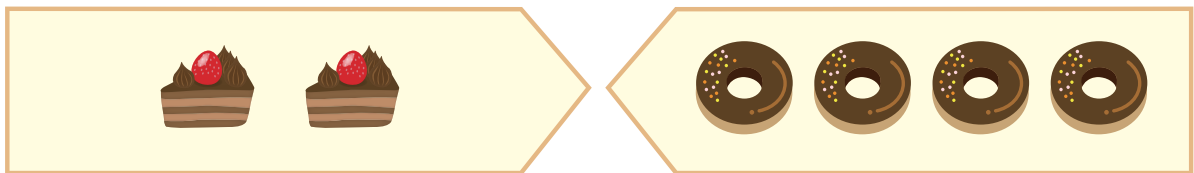
+

=

こたえ

こ

3



ケーキ

どーナつ

しき

+

=

こたえ

こ