



1 4は いくつといくつ でしょう。 に かずを かきましょう。




は  と 




は  と 

2 5は いくつといくつ でしょう。 に かずを かきましょう。




は  と 




は  と 

3 6は いくつといくつ でしょう。 に かずを かきましょう。



は  と 



は  と 



は  と 