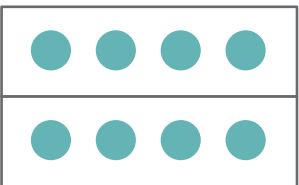
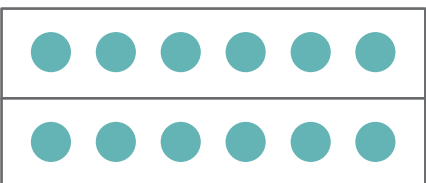
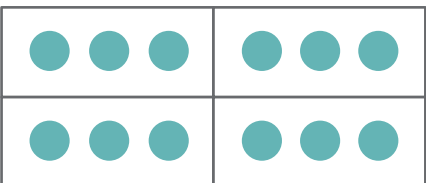


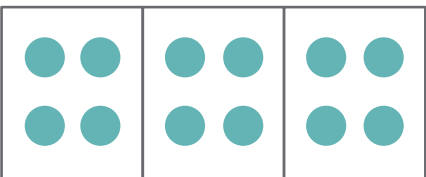
分数ともとの大きさ


え みて に あてはまる 数 を 書 け ます け ん。

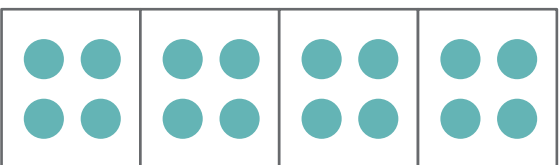
1  8 この $\frac{1}{2}$ は 何 處 に な り ます か。 處

2  12 この $\frac{1}{2}$ は 何 處 に な り ます か。 處

3  12 この $\frac{1}{4}$ は 何 處 に な り ます か。 處

4  12 この $\frac{1}{3}$ は 何 處 に な り ます か。 處

5  18 この $\frac{1}{3}$ は 何 處 に な り ます か。 處

6  16 この $\frac{1}{4}$ は 何 處 に な り ます か。 處