
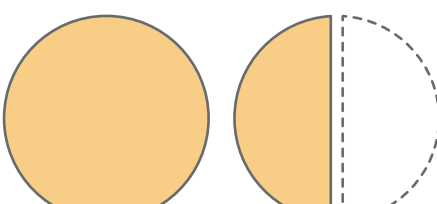
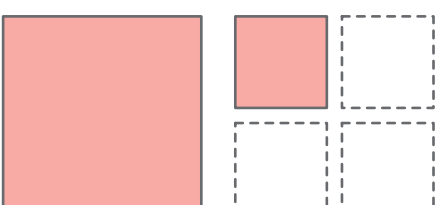
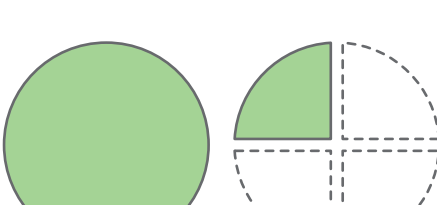


# 分数ともとの大きさ

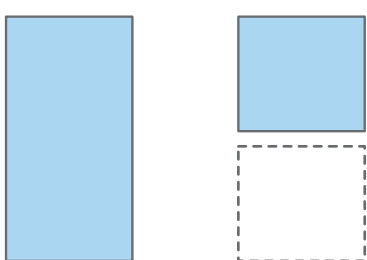
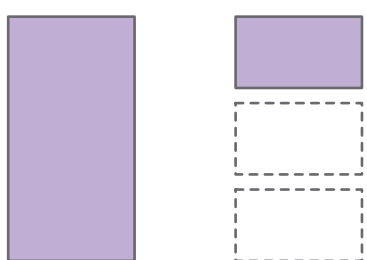
1 つぎのように <sup>かみ</sup>紙を <sup>き</sup>切った時、<sup>とき</sup>切った <sup>ぶん</sup>1つ分の <sup>おお</sup>紙の <sup>おお</sup>大きさは  
 もとの <sup>なんぶん</sup>紙の <sup>なんぶん</sup>何分の1になったかを <sup>ぶん</sup>分数で <sup>おお</sup>あらわしましょう。

①  ② 

もとの紙      2つに切った時            もとの紙      2つに切った時     

③  ④ 

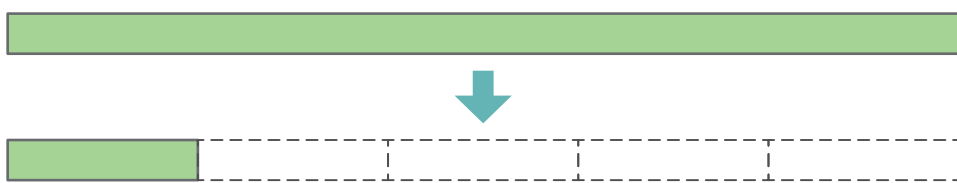
もとの紙      4つに切った時            もとの紙      4つに切った時     

⑤  ⑥ 

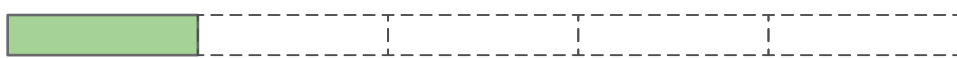
もとの紙      2つに切った時            もとの紙      3つに切った時     

2 テープを 下の ように 5つに <sup>わ</sup>分けました。

あ は 何分の1に なるでしょう。



↓



あ