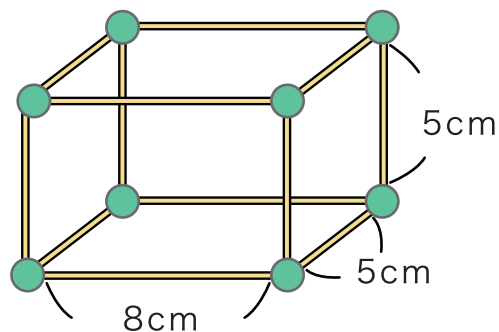


# はこの形

1 ひごと <sup>ど だま</sup>ねん土玉を つかってはこの形をつくります。

① <sup>なん</sup>ねん土玉は何こ  
いるでしょう。  こ

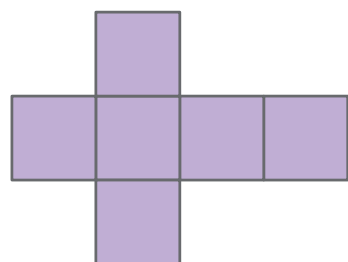


② <sup>なが</sup>どんな長さの <sup>ぼん</sup>ひごが何本  
ずつ いるでしょう。

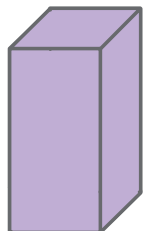
8cm…  本    5cm…  本

③ できたはこの形は <sup>めん</sup>面が  つ、<sup>てん</sup>ちょう点が  つ、  
<sup>へん</sup>辺が  つ あります。

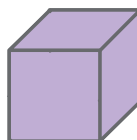
2 つぎの面をくみたててはこをつくとどんな形の  
はこができますか。 **あ** ~ **う** の <sup>なか</sup>中から こたえましょう。



**あ**



**い**



**う**

