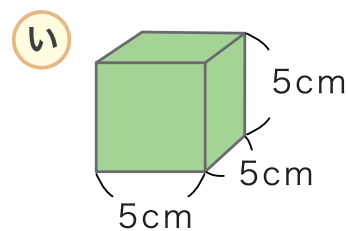
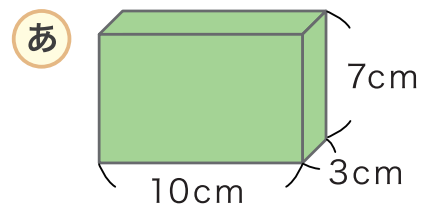


# はこの形

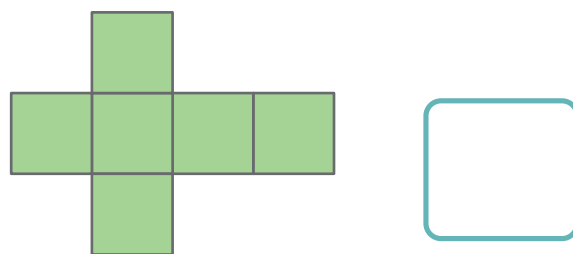
がつ になち  
なまえ

にあてはまる <sup>かず</sup> 数や <sup>ことば</sup> 言葉を <sup>か</sup> 書きましょう。

1 この形は <sup>めん</sup> 面が  つ  
<sup>へん</sup> 辺が  つ、<sup>てん</sup> ちょう点が  つ  
から できています。



2 <sup>みぎ</sup> 右のような 面を くみたてて はこを  
つくと **あ** と **い** の どちらの  
はこが できますか。



3 **あ** の はこの 面の 形は なんという  
<sup>しかくけい</sup> 四角形か こたえましょう。

4 **あ** の はこには <sup>おな</sup> 同じ 形の 面が  
いくつずつ あるでしょう。

 つずつ

5 **い** の はこの 面の 形は なんという  
四角形か こたえましょう。

6 **い** の はこには 同じ 形の 面が  
いくつ あるでしょう。

 つ