


どちらがおおきい

1 すうじの かずが おおきいほうの □ に まるをつけましょう。


①



②

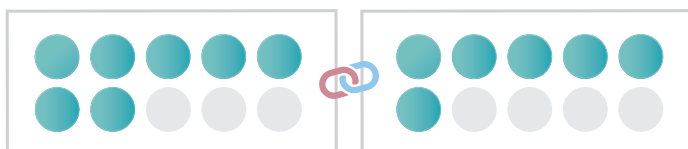


③

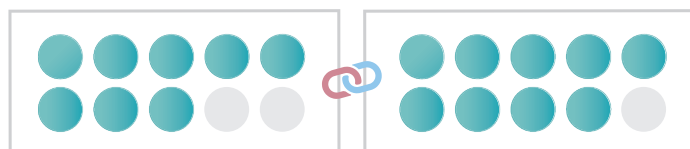


2 ● の かずが おおきいほうの □ に まるをつけましょう。

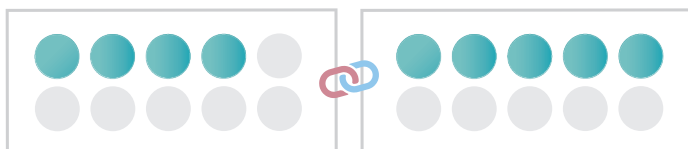
①



②



③



④

