
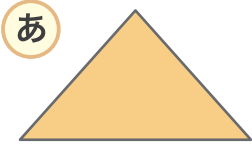


三角形と四角形

1 □にあてはまる数や言葉を書きましょう。

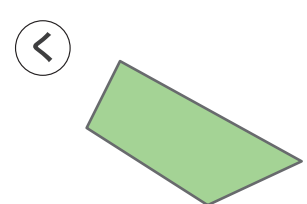
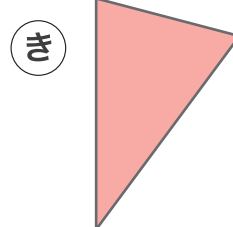
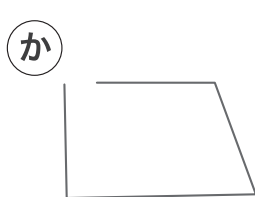
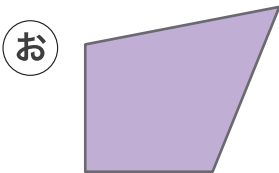
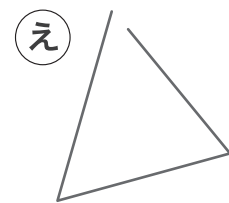
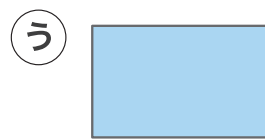
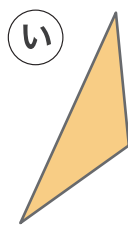
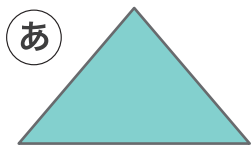


① 三角形は □ 本の直線で
かこまれた形です。

② 四角形は □ 本の直線でかこまれた形です。

③ 三角形は ②と③のどちらですか。 □

2 つぎの形の中から三角形と四角形を見つけて
すべてこたえましょう。



三角形 ...

四角形 ...