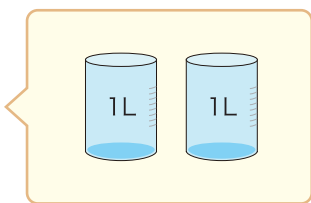


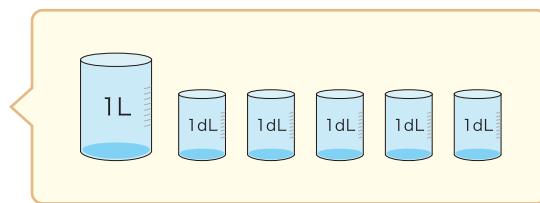
1 ペットボトルに 2L、紙パックに 1L 5dL の水が入ります。



ペットボトル



紙パック



① ペットボトルと紙パックのかさはあわせてどれだけでしょう。


$$\square \text{ L} + \square \text{ L} \square \text{ dL} = \square \text{ L} \square \text{ dL}$$

② ペットボトルと紙パックのかさのちがいはどれだけでしょう。

$$\square \text{ L} - \square \text{ L} \square \text{ dL} = \square \text{ L} \square \text{ dL}$$

2 バケツに 5L 7dL、ビンに 3L 2dL 入ります。

次のもんだいのしきとこたえを書きましょう。



① バケツとビンのかさはあわせてどれだけでしょう。

しき

こたえ

② バケツとビンのかさのちがいはどれだけでしょう。

しき

こたえ