


たし算のひっ算①

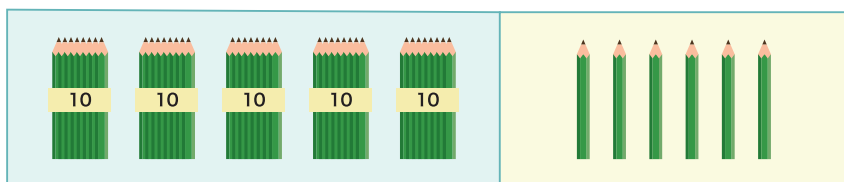
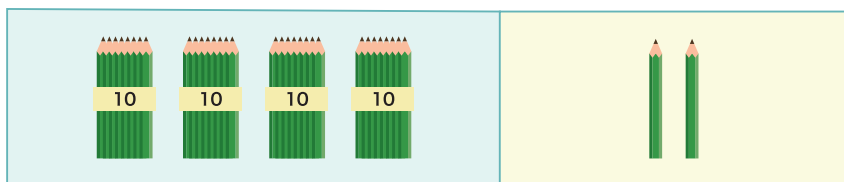
1 つぎの ^{けいさん}計算を ひっ算で しましょう。

① $24 + 33$



	2	4
+	3	3

② $42 + 56$



	4	2
+	5	6

2 つぎの ^{けいさん}計算を しましょう。

① $53 + 14$

	5	3
+	1	4

② $37 + 21$

	3	7
+	2	1

③ $63 + 36$

	6	3
+	3	6