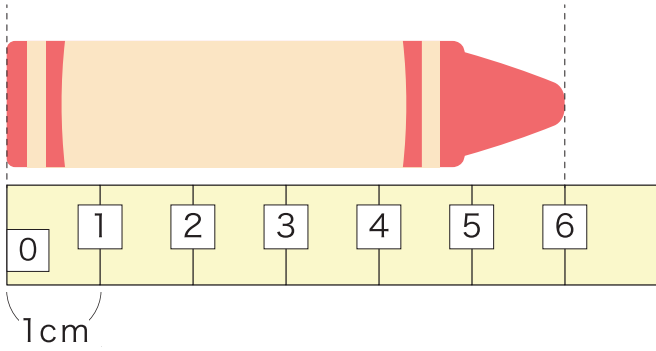
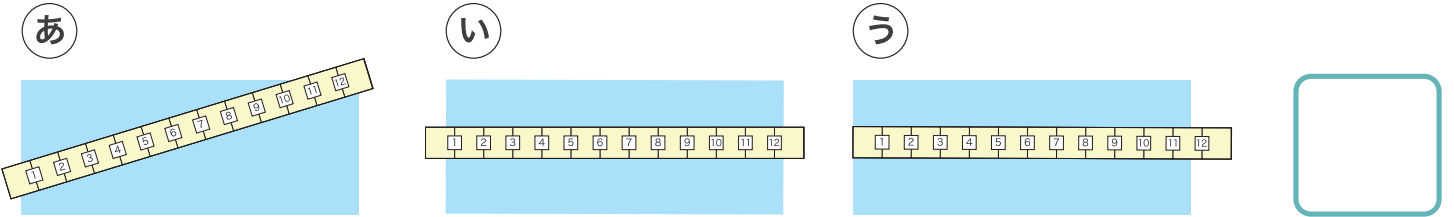


1 □ に あてはまる 数<sup>かず</sup>を 書<sup>か</sup>きましょう。

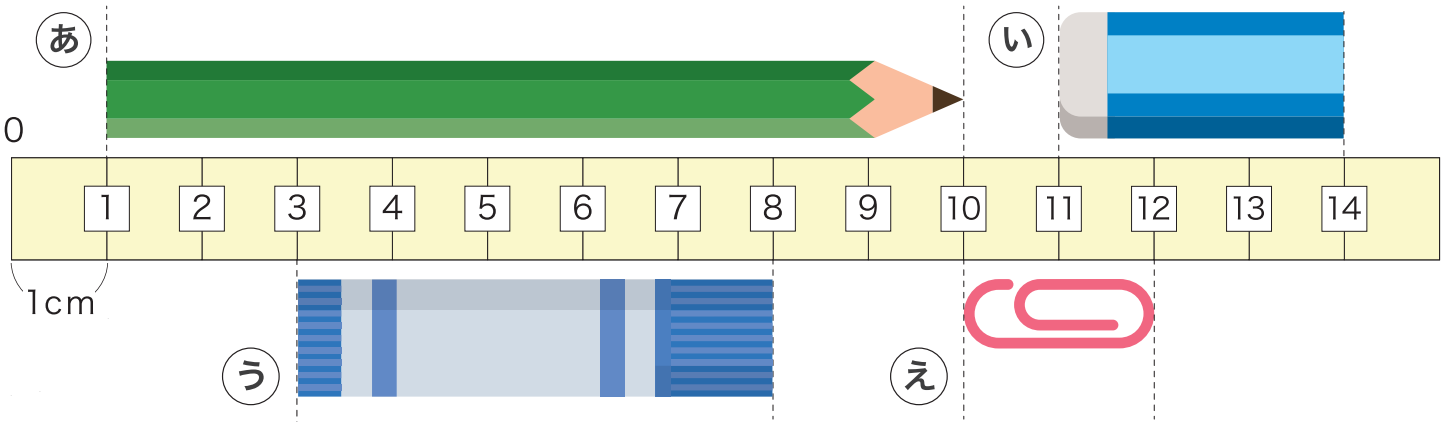


ひだり  
左の クレヨンの 長さ<sup>ながさ</sup>は 1cmの  
□ ぶん<sup>ぶん</sup>で □ cm です。

2 正<sup>ただ</sup>しく 長さ<sup>ながさ</sup>を はか<sup>はか</sup>って いるのは どれ<sup>どれ</sup>でしょう。



3 つぎ<sup>つぎ</sup>の もの<sup>もの</sup>の 長さ<sup>ながさ</sup>は 何<sup>なん</sup>cm に なる<sup>なる</sup>でしょう。



あ □ cm    い □ cm    う □ cm    え □ cm