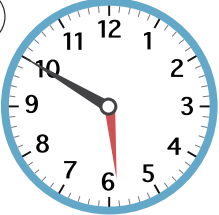





1 と け い  
時計をみて つぎの 時刻を 答えましょう。

①  30分<sup>ぶん</sup>あと

②  20分まえ

③  45分あと

④  1時間まえ

2 つぎの 時間を 答えましょう。

① 6時30分から 7時まで

② 4時15分から 4時30分  
まで

③ 2時30分から 3時20分  
まで

④ 9時30分から 10時30分  
まで

⑤ 午後<sup>ごご</sup>3時20分から 午後<sup>ごご</sup>4時  
まで

⑥ 午前<sup>ごぜん</sup>11時から 午後<sup>ごご</sup>2時  
まで