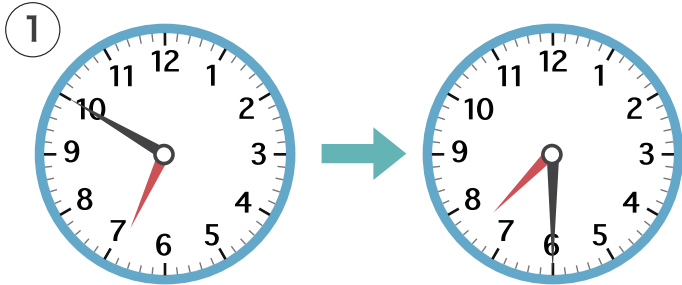
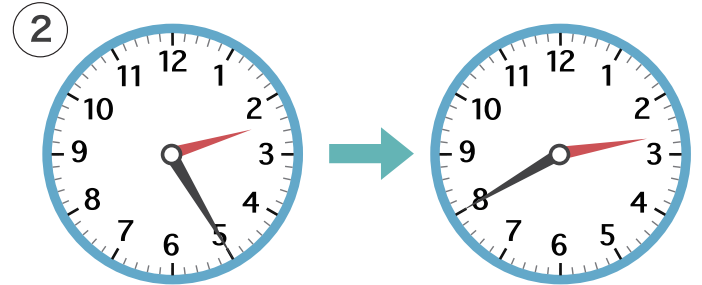
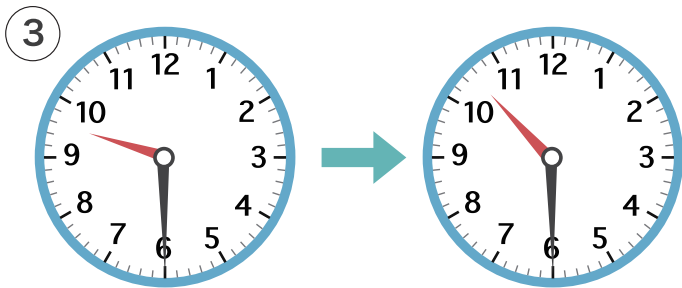
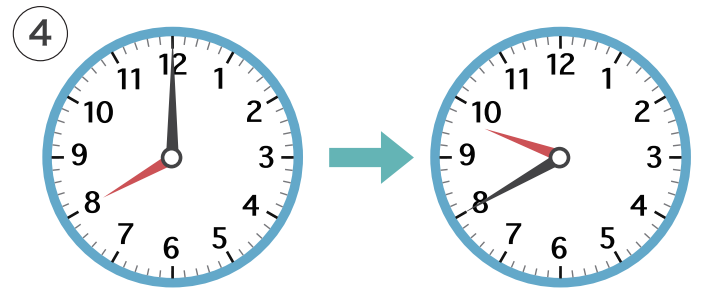


1 ひだり と けい みぎ  
左の時計が右の時計になるまでの時間をこたえましょう。










2 つぎの時こくをこたえましょう。

① 8時20分<sup>ぶん</sup>から 30分あと

② 3時45分から 15分まえ

③ 10時20分から 40分あと

④ 7時30分から 1時間まえ