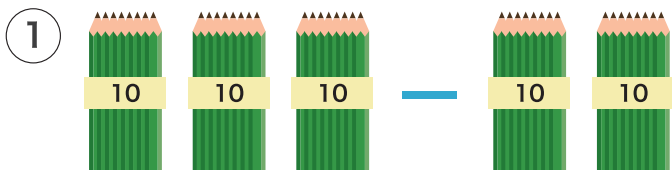



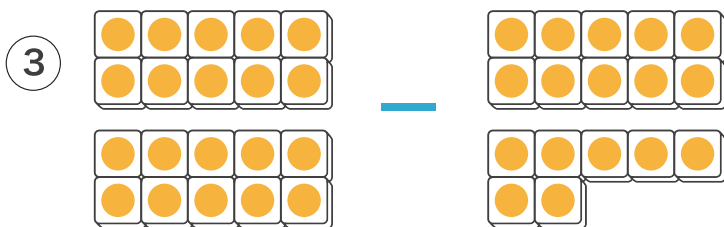
1 えをみて ひきざんを しましょう。



$$\square - \square = \square$$



$$\square - \square = \square$$



$$\square - \square = \square$$

2 ひきざんを しましょう。

① $40 - 30 = \square$

② $60 - 20 = \square$

③ $100 - 40 = \square$

④ $85 - 3 = \square$

⑤ $79 - 6 = \square$

⑥ $99 - 8 = \square$

3 いろがみが 38まい あります。6まい つかうと
のこりは なんまいに なりますか。



しき

こたえ

まい