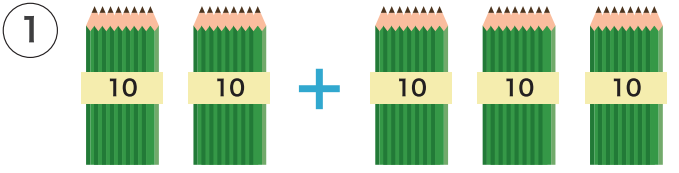



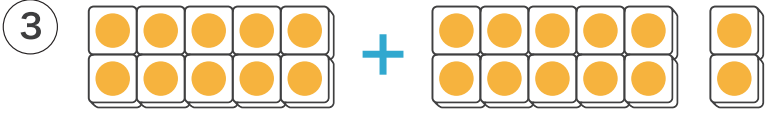
1 えをみて たしざんを しましょう。



$$\square + \square = \square$$



$$\square + \square = \square$$



$$\square + \square = \square$$

2 たしざんを しましょう。

①  $10 + 60 = \square$

②  $40 + 50 = \square$

③  $30 + 70 = \square$

④  $22 + 5 = \square$

⑤  $53 + 7 = \square$

⑥  $35 + 4 = \square$

3 こうえんで 23にん あそんでいます。そこへ さらに 5にん くと なんにん になりますか。



しき

こたえ  にん