


1 えをみて ひきざんを しましょう。

① えんぴつが 13ほん ありました



2ほん なくなりました

しき

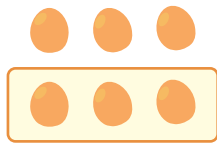
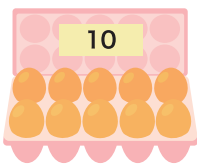
−

=

こたえ

ほん

② たまごが 16こ ありました



3こ なくなりました

しき

−

=

こたえ

こ

2 □ に あてはまる かずを かきましょう。

① 15から 3を
ひいた かずは

② 15から 3を
ひいた かずは

③ 14から 4を
ひいた かずは

④ 19から 7を
ひいた かずは

⑤ 11は 19から を ひいた かず です

⑥ 12は 18から を ひいた かず です