

小
一


さんすうもんだい

10よりおおきいかずのたしざん

がつ 日にち
なまえ

ぜんぶで いくつに なるでしょう。たしざんを して こたえましょう。

1 りんごが 10こ ありました。さらに 5こ もらいました。

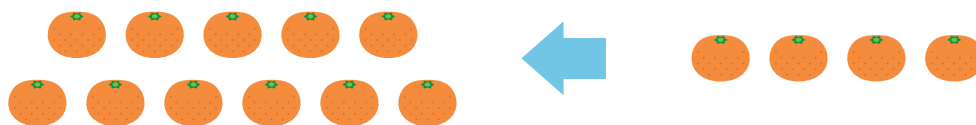


しき

こたえ

こ

2 みかんが 11こ あります。さらに 4こ もらいました。




しき

こたえ

こ

3 ケーキが 12こ あります。さらに 7こ もらいました。



しき

こたえ

こ