

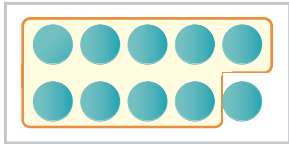


- 1 いちごが 17こ あります。9こ たべました。
のこりは なんこに なったでしょう。



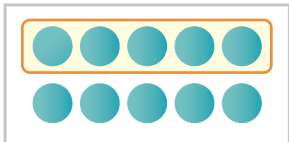
10と7に わけて かんがえてみよう



しき $\square - \square = \square$ 答え \square こ

- 2 えんぴつが 14ほん あります。5ほん つかいました。
のこりは なんほんに なったでしょう。

10と4に わけて かんがえてみよう



しき $\square - \square = \square$ 答え \square ほん

- 3 けーきが 16こ あります。そのうち 8こ たべました。
のこりは なんこに なったでしょう。

しき $\square - \square = \square$ 答え \square こ