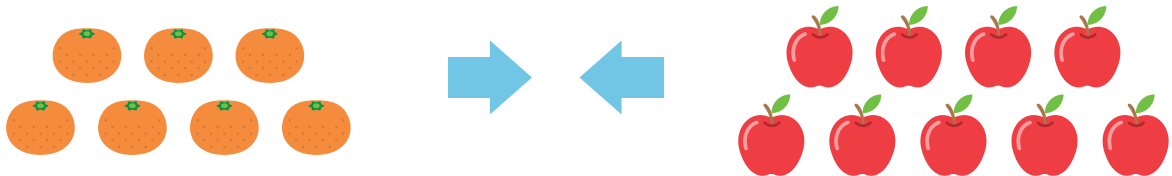


あわせて いくつになるでしょう。

- 1 みかんが 7こ、りんごが 9こ あります。

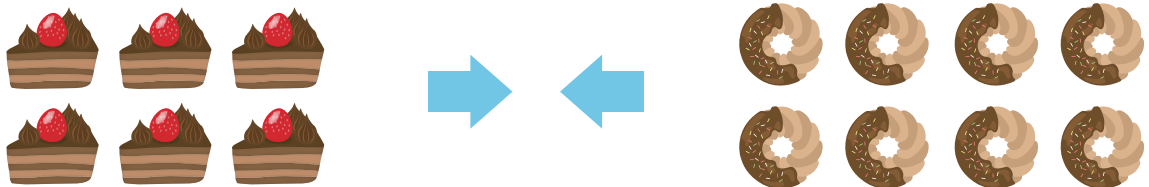


しき

こたえ

こ

- 2 ケーキが 6こ、どーナツが 8こ あります。

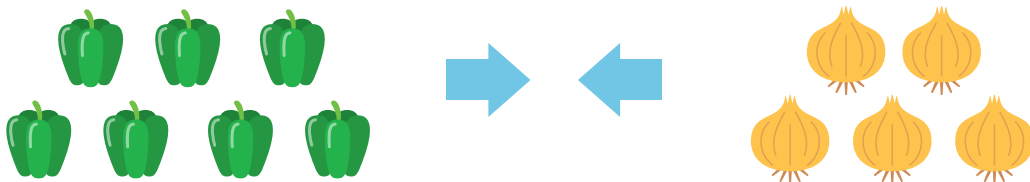


しき

こたえ

こ

- 3 ピーマンが 7こ、たまねぎが 5こ あります。



しき

こたえ

こ