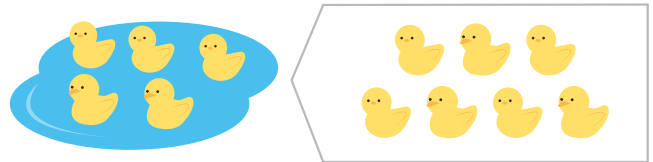
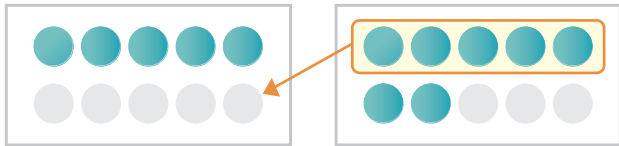


- 1 あひるが 5わ いました。さらに 7わ きました。  
ぜんぶで なんわに なったでしょう。

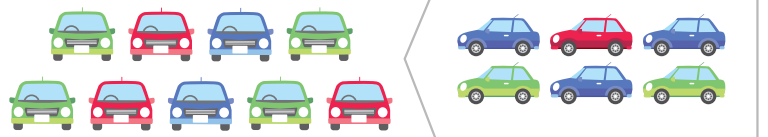
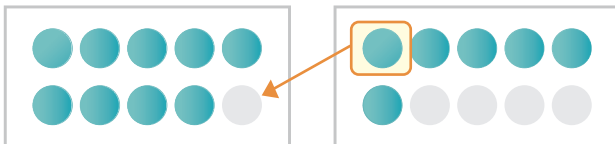
10をつくって かんがえよう



しき  $\square + \square = \square$       ことえ  $\square$  わ

- 2 くるまが 9だい ありました。さらに 6だい きました。  
ぜんぶで なんだいに なったでしょう。

10をつくって かんがえよう



しき  $\square + \square = \square$       ことえ  $\square$  だい

- 3 えんぴつが 8ほん あります。さらに 9ほん もらいました。  
ぜんぶで なんほんに なったでしょう。

しき  $\square + \square = \square$       ことえ  $\square$  ほん