



3つのかずのけいさん


1 りんごは なんこに なったでしょう。



3こ あります



1こ たべました



2こ もらいました


しき

$$3 - \square + \square = \square$$


こたえ

こ


2 どーナツは なんこに なったでしょう。



3こ あります



2こ もらいました



3こ たべました


しき

$$3 + \square - \square = \square$$

こたえ

こ


3 とりは なんひきに なったでしょう。



5ひき います



3ひき とんでいきました



2ひき とんできました

しき

$$5 - \square + \square = \square$$

こたえ

ひき