




1 もぐらは のこり なんひきに なったでしょう。



5ひきいます



1ひき かえりました



2ひき かえりました

しき

$$5 - \square - \square = \square$$

こたえ

$$\square \text{ ひき}$$

2 けーきは のこり なんこに なったでしょう。



7こ あります



2こ たべました



4こ たべました


しき

$$7 - \square - \square = \square$$


こたえ

$$\square \text{ こ}$$


3 はちは のこり なんひきに なったでしょう。



10ひき います



3ひき とんでいきました



4ひき とんでいきました

しき

$$10 - \square - \square = \square$$

こたえ

$$\square \text{ ひき}$$