


























かずを せいりして しらべて みましょう。

1 どうぶつの かずだけ いろを ぬりましょう。



いぬ 	    
ねこ 	    
うさぎ 	    
ぞう 	    

2 5ひき いるのは どの どうぶつ
ですか。

3 かずが 3ばんめに おおいは
どの どうぶつ ですか。

4 かずが 3ばんめに すくないのは
どの どうぶつ ですか。

5 うさぎは ぞうより
なんひき おおいですか。

ひき