

なが けい さん ひ ざん  
**長さの計算(引き算)**

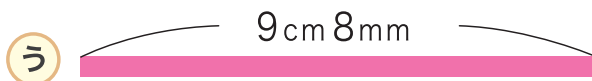
1 つぎの テープの 長さの ちがいを こたえましょう。

① **あ** のテープと、  cm  
**え** のテープ。



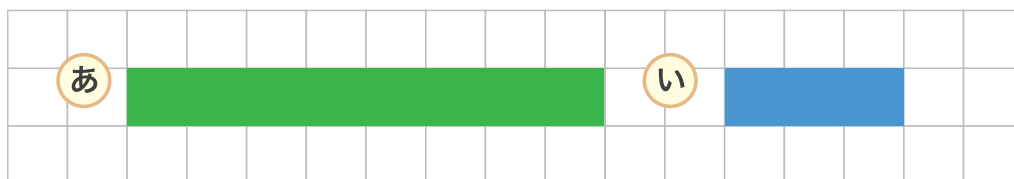
② **あ** のテープと、 **い** のテープ。

cm  mm



③ **う** のテープと、 **え** のテープ。  cm  mm

2 <sup>した</sup>下のマスは 1 マスが 1cm です。 **あ** と **い** の テープの 長さの ちがいを <sup>か</sup>しきに 書いて こたえましょう。




しき

こたえ

cm

3 90mmの あつさの板と、 30mmの あつさの板の <sup>いた</sup>あつさの ちがいを こたえましょう。



しき

こたえ

mm