

















20よりおおきいかず

がつ 日にち
なまえ

1 つぎの **あ**～**え** のなかで
100えんだまで かえるものを
ぜんぶ かきましょう。

あ		い	
	95円		238円
う		え	
	80円		150円

2 つぎの おかねは ぜんぶで いくらあるか こたえましょう。

①	  	②	   	③	    
	<input type="text"/> えん		<input type="text"/> えん		<input type="text"/> えん

3 つぎの かずを ちいさい かずから じゅんに かきましょう。

① 80、100、90、60	② 105、112、84、99
<input type="text"/>	<input type="text"/>

③ 92、78、114、86、105、109、118

④ 115、100、120、116、102、108、113