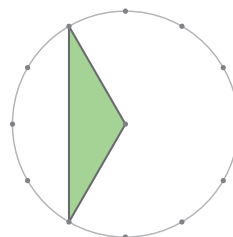
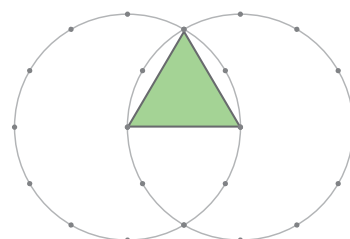


1 つぎの三角形は 何という三角形か 答えましょう。

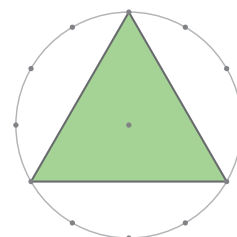
① 右のように 円の中心とまわりをつないで
できた三角形。



② 右のように 半径の長さが等しい円を2つ重ねて
円の中心を通る三角形。



③ 右のように 円のまわりを 均等につないで
できた三角形。



2 右のように 正方形の紙を半分において
点線で切って三角形を作ります。つぎの
三角形は何という三角形になるでしょう。

