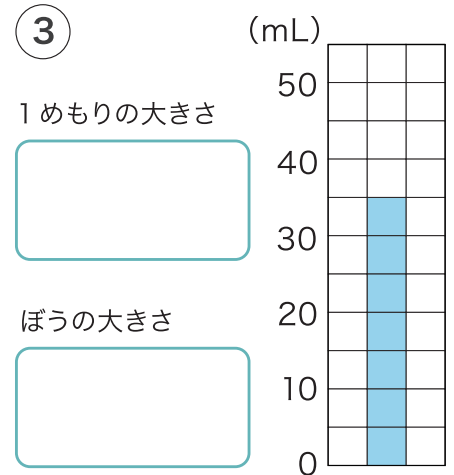
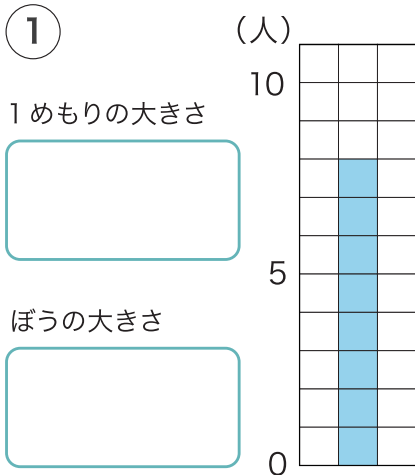


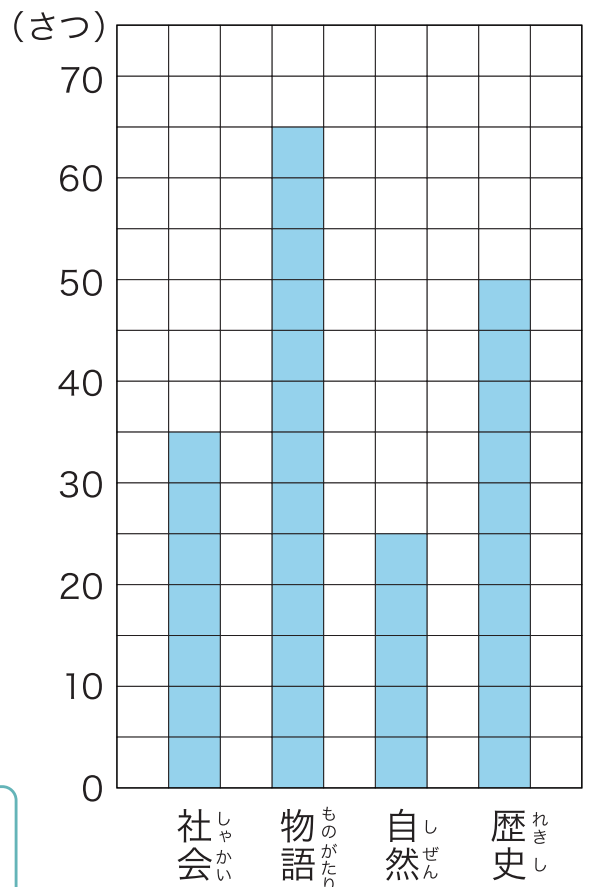
月	日
名前	

1 下のぼうグラフの 1 めもりの大きさと ぼうが^{あらわ}表している大きさを たんいをつけて 答えましょう。



2 右のぼうグラフは 先週 図書室で かりられた本の しゅるいと数を 表しています。

図書室でかりられた本のしゅるいと数



① ぼうグラフの 1 めもりは 何さつを 表していますか。

② 一番多くかりられたのは 何の本ですか。

③ 歴史の本は 自然の本より 何さつ 多く かりられましたか。