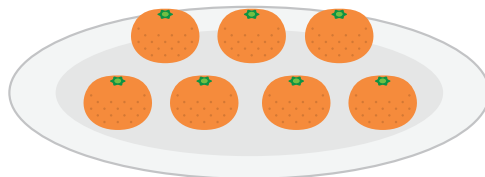



どちらが なんこ おおい でしょう。

1 りんごが 3こ。みかんが 7こ あります。

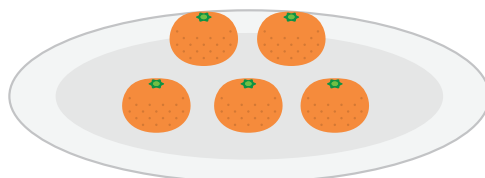



こたえ

が

こ おおい。

2 りんごが 4こ。みかんが 5こ あります。

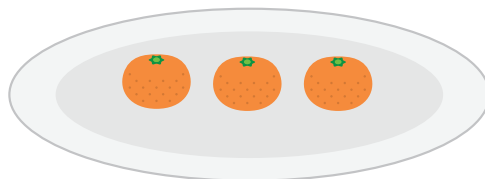



こたえ

が

こ おおい。

3 りんごが 5こ。みかんが 3こ あります。



こたえ

が

こ おおい。