


のこりは なんひき でしょう。


1 はちが 5ひき います。3ひき とんでいきました。



こたえ

ひき


2 はちが 7ひき います。2ひき とんでいきました。



こたえ

ひき


3 はちが 8ひき います。4ひき とんでいきました。



こたえ

ひき

4 はちが 6ひき います。5ひき とんでいきました。



こたえ

ひき